

Univerza v Mariboru

Fakulteta za logistiko

**Zbirka nalog iz uporabe  
matematičnih metod v logistiki I**

MAJA FOŠNER in BOJANA ZALAR

Celje 2008

Naslov: Zbirka nalog iz uporabe matematičnih metod v logistiki I

Avtor: doc. dr. Maja Fošner in dr. Bojana Zalar

Recenzent: doc. dr. Ajda Fošner

CIP - Kataložni zapis o publikaciji  
Narodna in univerzitetna knjižnica, Ljubljana

51(075.8)(076.1)

FOŠNER, Maja

Zbirka nalog iz uporabe matematičnih metod v logistiki I  
[Elektronski vir] / Maja Fošner in Bojana Zalar. - Celje :  
Fakulteta za logistiko, 2008

Način dostopa (URL): [http://fl.uni-mb.si/eknjige/zbirka\\_umml\\_1.pdf](http://fl.uni-mb.si/eknjige/zbirka_umml_1.pdf)

ISBN 978-961-6562-21-8

1. Zalar, Bojana

240023808

### *Jaz, študent logistike ...*

Naslednji teden bo kolokvij. Naloge bodo ... „take, kot na vajah“. Standardni odgovor, ki ničesar ne izda. In sedaj? 80 strani, 5 poglavij ... - to pravzaprav vem že od oktobra; predgovor pa berem le zato, da pridobim čas.

Upava, da ne boste posegali po knjigi le v paničnem predizpitnem času. In da ste v naslovih poglavij spoznali že znane pojme morda zbledelega srednješolskega znanja.

Uporaba matematičnih metod v logistiki 1 vas skuša vpeljati v osnovne tipe nalog, kakršne potem srečujete v raznih preverjanjih in se zdijo - vedno znova - novi. Zbirka je prilagojena učnemu načrtu visokega strokovnega programa. Zastavljene naloge so prikazane s celotnim potekom reševanja, ob ponavljajočih se podobnih primerih pa so podane le končne rešitve. Zbirka tako dopolnjuje predpisano izpitno literaturo:

- Fošner M.: Uporaba matematičnih metod v logistiki 1, e-gradivo,

predvsem pa pomaga prebroditi začetne nesporazume z matematičnimi nalogami.

Želiva, da bi vam koristila, tako pri izpitih, kot tudi kasneje - „v uporabi“.

Celje, julija 2008

Avtorici



# Kazalo

<b>1</b>	<b>Osnove</b>	<b>7</b>
1.1	Realna števila . . . . .	7
1.2	Kompleksna števila . . . . .	18
<b>2</b>	<b>Matrike</b>	<b>27</b>
2.1	Računanje z matrikami . . . . .	27
2.2	Sistemi linearnih enačb . . . . .	33
<b>3</b>	<b>Vektorji</b>	<b>37</b>
3.1	Osnovne operacije z vektorji . . . . .	37
3.2	Produkti, linearna kombinacija . . . . .	43
3.3	Premica in ravnina v prostoru . . . . .	50
<b>4</b>	<b>Zaporedja in vrste</b>	<b>55</b>
4.1	Zaporedja . . . . .	55
4.2	Vrste . . . . .	64
<b>5</b>	<b>Funkcije ene spremenljivke</b>	<b>69</b>



# Poglavje 1

## Osnove

### 1.1 Realna števila

1. Zapišite elemente množic:

(a)  $A = \{x \in \mathbb{N}; x^2 = 25\}$

(b)  $B = \{x \in \mathbb{Z}; x^2 = 25\}$

(c)  $C = \{x \in \mathbb{Z}; 2x = 3\}$

(d)  $D = \{x \in \mathbb{Q}; 2x = 3\}$

**Rešitev.**

(a) Množica  $A$  vsebuje tista naravna števila, katerih kvadrat je 25. Edino takšno število je 5. Torej:  $A = \{5\}$ .

(b) Množica  $B$  vsebuje tista cela števila, katerih kvadrat je 25. Takšni števili sta 2: 5 in  $-5$ . Torej:  $B = \{-5, 5\}$ .

(c) Množica  $C$  vsebuje tista cela števila, ki rešijo enačbo  $2x = 3$ . Takšnega celega števila ni. Torej:  $C = \{\}$ .

(d) Množica  $D$  vsebuje tista racionalna števila, ki rešijo enačbo  $2x = 3$ . V množici racionalnih števil ima dana enačba rešitev  $x = \frac{3}{2}$ . Torej:  $D = \{\frac{3}{2}\}$ .

2. V množici realnih števil rešite enačbe:

- (a)  $(x - 2)(x + 4) - (x - 1)^2 = 2x - 3$   
 (b)  $x - (5x - (x + 2)) = 8$   
 (c)  $5(2 + x) - 3(3 + x) = 2x + 1$   
 (d)  $(2x + 1)^2 - x(4x - 3) = 7x$   
 (e)  $\frac{x-1}{6} + \frac{2x+1}{3} - \frac{x-1}{2} = 2x$   
 (f)  $x^2 - 5x = 14$   
 (g)  $x^2 + 8x - 9 = 0$   
 (h)  $6x^2 - x - 1 = 0$   
 (i)  $x^2 - 4x + 5 = 0$   
 (j)  $x^3 - 4x^2 - 9x + 36 = 0$   
 (k)  $x^3 - 7x + 6 = 0$

**Rešitev.**

- (a) • Odpravimo oklepaje:  $x^2 + 2x - 8 - x^2 + 2x - 1 = 2x - 3$ .  
 • Skrčimo izraz in po ureditvi dobimo linearno enačbo  $2x = 6$  z rešitvijo  $x = 3$ .
- (b) Kot v gornjem primeru dobimo rešitev  $x = -2$ .
- (c) Po ureditvi dobimo identično izpolnjeno enačbo  $0 = 0$ , kar pomeni, da je vsako realno število  $x \in \mathbb{R}$  rešitev dane enačbe. Množica rešitev je  $\mathbb{R}$ .
- (d) Po ureditvi dobimo protislovno enačbo  $1 = 0$ , kar pomeni, da nobeno realno število ne reši dane enačbe. Množica rešitev enačbe je prazna.
- (e) • Odpravimo ulomke (enačbo množimo z najmanjšim skupnim večkratnikom imenovalcev, to je s 6). Dobimo

$$x - 1 + 2(2x + 1) - 3(x - 1) = 12x.$$

- Kot v gornjih primerih dobimo rešitev  $x = \frac{2}{5}$ .
- (f) • Enačba je kvadratna. Uredimo jo tako, da so vsi neničelni členi na eni (levi) strani enačbe

$$x^2 - 5x - 14 = 0.$$



- Razstavimo izraz na levi strani po Vietovem pravilu

$$x^2 + (a + b)x + ab = (x + a)(x + b)$$

in dobimo

$$(x - 7)(x + 2) = 0.$$

- Produkt  $(x - 7)(x + 2)$  je enak 0, kadar je eden od faktorjev enak 0:  $x - 7 = 0$  ali  $x + 2 = 0$ .
- Dobimo 2 rešitvi:  $x_1 = 7$  in  $x_2 = -2$ .

Opomba: Če razcepa po Vietovem pravilu ne uganemo, uporabimo spodnje formule (primer (h)).

(g) Kot v gornjem primeru dobimo rešitvi  $x_1 = 1$  in  $x_2 = -9$ .

(h) Rešitvi kvadratne enačbe  $ax^2 + bx + c = 0$  računamo po formulah

$$D = b^2 - 4ac, \quad x_{1,2} = \frac{-b \pm \sqrt{D}}{2a}.$$

V našem primeru je  $a = 6$ ,  $b = -1$ ,  $c = -1$  in

$$D = (-1)^2 - 4 \cdot 6 \cdot (-1) = 25, \quad \sqrt{D} = 5$$

$$x_{1,2} = \frac{1 \pm 5}{12}$$

$$x_1 = \frac{1 + 5}{12} = \frac{1}{2}, \quad x_2 = \frac{1 - 5}{12} = \frac{-1}{3}.$$

(i) Kot v gornjem primeru dobimo  $D = -4$ . Koren  $\sqrt{D} = \sqrt{-4}$  ni realno število, dana enačba nima realnih rešitev.

(j) • Izraz na levi strani enačbe razstavimo:

$$x^3 - 4x^2 - 9x + 36 = 0$$

$$x^2(x - 4) - 9(x - 4) = 0$$

$$(x - 4)(x^2 - 9) = 0$$

$$(x - 4)(x - 3)(x + 3) = 0.$$

- Produkt  $(x - 4)(x - 3)(x + 3)$  je enak 0, kadar je eden od faktorjev enak 0:  $x - 4 = 0$  ali  $x - 3 = 0$  ali  $x + 3 = 0$ .
- Dobimo 3 rešitve:  $x_1 = 4$ ,  $x_2 = 3$ ,  $x_3 = -3$ .

(k) Kadar izraza na levi strani enačbe (stopnje višje od 2) ne znamo razstaviti, eno rešitev  $x_1$  uganemo in izraz (polinom) delimo z dvočlenikom  $x - x_1$ . Dobljeni količnik je polinom nižje stopnje, ki ga nadalje razstavimo po enem od že znanih postopkov.

- Uganemo:  $x_1 = 1$ .
- Delimo:

$$\begin{array}{r}
 (x^3 - 7x + 6) : (x - 1) = x^2 + x - 6 \\
 - (x^3 - x^2) \\
 \hline
 x^2 - 7x + 6 \\
 - (x^2 - x) \\
 \hline
 -6x + 6 \\
 - (-6x + 6) \\
 \hline
 0
 \end{array}$$

- Razstavimo dobljeni količnik:  $x^2 + x - 6 = (x + 3)(x - 2)$ .
- Dano enačbo zapišemo v razstavljeni obliki:

$$x^3 - 7x^2 + 6 = (x - 1)(x + 3)(x - 2) = 0.$$

- Izračunamo rešitve:  $x_1 = 1$ ,  $x_2 = -3$ ,  $x_3 = 2$ .

Opomba: Namesto deljenja polinomov lahko uporabimo Hornerjev algoritem.

$$\begin{array}{r|rrrr|r}
 & 1 & 0 & -7 & 6 & \\
 \hline
 1 & & 1 & 1 & -6 & \\
 \hline
 & 1 & 1 & -6 & 0 & 
 \end{array}$$

3. Rešite iracionalne enačbe in napravite preizkus:

- (a)  $\sqrt{x+7} + 1 = x - 4$   
 (b)  $2x + \sqrt{2x^2 + x - 1} = 1$

**Rešitev.**

- (a) • Uredimo enačbo (osamimo koren na eni strani enačbe):

$$\sqrt{x+7} = x - 5.$$

- Enačbo kvadriramo (odpravimo koren):

$$x + 7 = x^2 - 10x + 25.$$

- Rešimo kvadratno enačbo:  $x_1 = 9$ ,  $x_2 = 2$ .
- Napravimo preizkus -  $x_1$  in  $x_2$  vstavimo v prvotno enačbo. Ugotovimo:  $x_1$  ustreza prvotni enačbi,  $x_2$  ne ustreza.
- Rešitev prvotne enačbe je le  $x_1 = 9$ .

Opomba: Če med reševanjem enačbo kvadriramo, je preizkus obvezen. Kvadrirana enačba ima (navadno) več rešitev od prvotne.

- (b) Kot v gornjem primeru dobimo rešitev  $x = \frac{1}{2}$ .

4. Rešite eksponentne in logaritemske enačbe:

(a)  $3^x = 81$

(b)  $2^{(x-5)x} = \left(\frac{1}{4}\right)^{x+1}$

(c)  $\log_3 \sqrt[7]{3} = x$

(d)  $\log_3 x = 2$

(e)  $\log_{\sqrt{3}} x = \frac{1}{2}$

**Rešitev.**

- (a) Potenci z isto osnovo  $3^x = 3^4$  ( $= 81$ ) sta enaki, če sta enaka eksponenta, torej  $x = 4$ .

- (b) Enakost  $2^{(x-5)x} = 2^{-2(x+1)}$  ( $= \left(\frac{1}{4}\right)^{x+1}$ ) da enakost eksponentov

$$(x - 5)x = -2(x + 1)$$

in rešitev  $x_1 = 1, x_2 = 2$ .

- (c) Po definiciji logaritma je  $3^x = \sqrt[7]{3} = 3^{\frac{1}{7}}$ , torej  $x = \frac{1}{7}$ .

- (d) Zapis definicije logaritma da rešitev  $3^2 = x$  ali  $x = 9$ .

- (e) Kot zgoraj dobimo  $x = \sqrt[4]{3}$ .

5. Na številski premici predstavite intervale  $A = [-1, 3]$ ,  $B = (1, 5]$ ,  $C = (-1, 1)$  ter zapišite intervale  $A \cap C$ ,  $A \cup B$ ,  $A \setminus B$ ,  $A \setminus C$ ,  $(A \cap B)^C$ .

**Rešitev.**  $A = [-1, 3]$  je krajši zapis za interval - množico

$$A = \{x \in \mathbb{R}; -1 \leq x \leq 3\}.$$

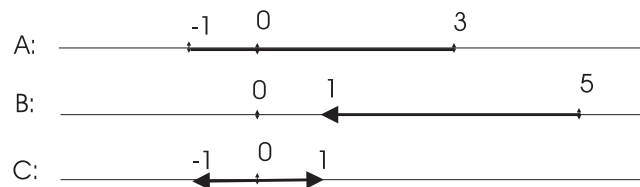
Podobno je

$$B = (1, 5] = \{x \in \mathbb{R}; 1 < x \leq 5\}$$

in

$$C = (-1, 1) = \{x \in \mathbb{R}; -1 < x < 1\}.$$

Množice narišemo eno pod drugo.



- V preseku množic  $A \cap C$  so tista realna števila, ki so hkrati v obeh množicah  $A$  in  $C$ . Nazorno to na gornji sliki pomeni "dvojno odebeljeno črto".

$$A \cap C = C = (-1, 1), \text{ ker je } C \subset A.$$

- V uniji množic  $A \cup B$  so tista realna števila, ki so vsaj v eni od množic  $A$  ali  $B$ . Nazorno to na sliki pomeni "tam, kjer je vsaj ena odebeljena črta".

$$A \cup B = [-1, 5]$$

- V množici  $A \setminus B$  so tista realna števila, ki so v množici  $A$  in niso v množici  $B$ . Nazorno to na sliki pomeni, da iz množice  $A$  izločimo "tisti del, kjer je črta dvojna".

$$A \setminus B = [-1, 1]$$

- Kot v gornjem primeru dobimo  $A \setminus C = \{-1\} \cup [1, 3]$ .

- Najprej zapišemo presek  $P = (A \cap B) = (1, 3]$ .

V komplementu množice  $P$  so tista realna števila, ki niso v množici  $P$ . Nazorno to na sliki pomeni, da "tam odebeljene črte ni".

$$P^C = (A \cap B)^C = (1, 3]^C = (-\infty, 1] \cup (3, \infty)$$

Opomba: Dani primer ponazarja veljavnost  $(A \cap B)^C = A^C \cup B^C$ .

6. V množici realnih števil rešite naslednje neenačbe in rešitve zapišite z intervali:

(a)  $2(x - 1) > 4(x + 4) - 5$

(b)  $(x - 1)(x + 2) - x(x + 3) \leq 2$

(c)  $x^2 - 2x > 8$

(d)  $x^3 - 3x^2 - 4x \geq 0$

(e)  $\frac{x-5}{x+3} \geq 0$

**Rešitev.**

(a) • Linearno neenačbo uredimo (kakor linearno enačbo):

$$-2x > 13.$$

• Če je koeficient pri neznanki  $x$  negativen, neenačbo množimo z  $-1$ . Pri tem se neenakost obrne:

$$2x < -13.$$

• Po deljenju s (pozitivnim) številom 2 dobimo rešitev (zapisano kot izjavo):

$$x < \frac{-13}{2} \quad \text{ozioroma} \quad x \in \left(-\infty, \frac{-13}{2}\right).$$

Opomba: Interval je (desno) odprt, ker v neenačbi nastopa stroga neenakost;  $\frac{-13}{2}$  ni rešitev.

(b) Kot v gornjem primeru dobimo rešitev:

$$x \geq -2 \quad \text{ozioroma} \quad x \in [-2, \infty).$$

Opomba: Interval je (levo) zaprt, ker tudi vrednost  $-2$  reši neenačbo (znak  $\leq$  vključuje tudi enakost).

(c) Kvadratne neenačbe in neenačbe višjih stopenj (najenostavneje) rešimo na sledeči način:

• Vse člene prenesemo na eno (levo) stran neenačbe:

$$x^2 - 2x - 8 > 0.$$

- Rešimo enačbo  $x^2 - 2x - 8 = 0$ . Rešitvi sta:  $x_1 = -2$ ,  $x_2 = 4$ .
- Rešitvi (ničli izraza na levi strani neenačbe) narišemo na realno os.
- Izberemo eno vrednost, ki ni enaka dobljenima ničloma, na primer  $x = 0$ , in izračunamo vrednost izraza  $x^2 - 2x - 8$  (to je izraza na levi) v tej točki:

$$0^2 - 2 \cdot 0 - 8 = -8.$$

Vrednost izraza  $x^2 - 2x - 8$  v točki  $x = 0$  je negativna. Vrednost izraza  $x^2 - 2x - 8$  je negativna povsod na intervalu med ničloma ( $-2$  in  $4$ ), v vsaki od ničel pa predznak spremeni (slika (1.1)).

- Iz slike odčitamo rešitev - intervale, kjer je vrednost izraza (strogo) pozitivna:  $x \in (-\infty, -2)$  ali  $x \in (4, \infty)$  oziroma  $x \in (-\infty, -2) \cup (4, \infty)$ .



Slika 1.1:  $x^2 - 2x - 8 > 0$

- (d) Kot v gornjem primeru dobimo ničle izraza  $x^3 - 3x^2 - 4x$ :

$$x_1 = -1, x_2 = 0, x_3 = 4$$

in rešitev

$$x \in [-1, 0] \cup [4, \infty).$$

- (e) Če imamo na levi strani neenakosti (urejene tako, da je na desni vrednost 0) racionalen izraz, na realno os narišemo vse ničle števca in imenovalca. Racionalen izraz spremeni predznak bodisi v ničli števca bodisi v ničli imenovalca. Iz ustrezne slike odčitamo rešitev (kot v prejšnjih primerih):  $x \in (-\infty, -3) \cup [5, \infty)$ .  
Opomba: Ničla imenovalca  $-3$  ni rešitev (tam neenačba ni definirana), ničla števca  $5$  je rešitev (neenakost ni stroga).

7. Dano množico zapišite kot interval in mu določite maksimum, minimum, supremum in infimum.

- (a)  $A = \{x \in \mathbb{R}; 5 \geq 2x - 1 > -3\}$   
 (b)  $B = \{x \in \mathbb{R}; 2x - 1 \leq 3x + 1 < 2x + 3\}$

**Rešitev.**

- (a) Množica  $A$  vsebuje tiste  $x \in \mathbb{R}$ , ki ustrezajo neenačbama  
 i.  $5 \geq 2x - 1$  z rešitvijo  $x \leq 3$  oziroma  $x \in (-\infty, 3]$  in  
 ii.  $2x - 1 > -3$  z rešitvijo  $x \in (-2, \infty)$ .

Obema neenačbama ustrezajo tisti  $x \in \mathbb{R}$ , ki so v preseku rešitev posameznih neenačb:  $A = (-\infty, 3] \cap (-2, \infty) = (-2, 3]$  oziroma

$$A = \{x \in \mathbb{R}; -2 < x \leq 3\}.$$

- $\max A = 3$  (največje število množice  $A$ )
- $\min A$  ne obstaja (množica  $A$  ne vsebuje najmanjšega števila)
- $\sup A = 3$  (najmanjša zgornja meja)
- $\inf A = -2$  (največja spodnja meja)

- (b)  $B = [-2, 2)$   
 $\max B$  ne obstaja,  $\min B = -2$ ,  $\sup B = 2$ ,  $\inf B = -2$

8. Rešite sisteme neenačb:

- (a)  $x - 3 \leq 0$  in  $2x + 1 > 5$   
 (b)  $3x - 6 < 3$  in  $x^2 - 9 \geq 0$   
 (c)  $\frac{x+2}{x-1} < 1$  in  $x^2 - 3 \leq 2x$

**Rešitev.**

- (a) Rešimo vsako neenačbo posebej (kot opisano v nalogi 6):  
 i.  $x - 3 \leq 0$ :  $x \in (-\infty, 3]$   
 ii.  $2x + 1 > 5$ :  $x \in (2, \infty)$

Obe neenačbi rešijo tisti  $x \in \mathbb{R}$ , ki so v preseku rešitev posameznih enačb:

$$x \in (-\infty, 3] \cap (2, \infty) = (2, 3].$$

(b)  $x \in (-\infty, -3]$

(c)  $x \in [-1, 1)$

9. V množici realnih števil rešite naslednje enačbe, neenačbe in sisteme neenačb z absolutno vrednostjo:

(a)  $|x - 1| = 2$

(b)  $|2x + 3| = 1$

(c)  $|x + 7| = 2x - 3$

(d)  $|x + |-2|| = 4x - 1$

(e)  $|x + 3| \leq 2$

(f)  $|2x - 4| < 4$

(g)  $|x - 2| < 3$  in  $x - 1 \geq 0$

(h)  $|x - 1| \geq 3$  in  $|x + 1| < 8$

(i)  $|x - 1| > 2$  in  $x^2 - x < 20$

### ***Rešitev.***

(a) Postopek reševanja enačb:

- Pred izraz v absolutni vrednosti postavimo prvič znak +, drugič znak - in obe rešimo.

i.  $x - 1 = 2, x = 3$

ii.  $-(x - 1) = 2, x = -1$

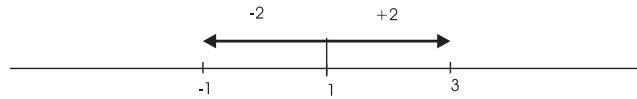
- Napravimo preizkus. V tem primeru obe rešitvi  $x_1 = 3$  in  $x_2 = -1$  ustrezata prvotni enačbi.

Preizkus je obvezen. Ni nujno, da vse tako dobljene rešitve rešijo prvotno enačbo.

Opomba:  $|x|$  pomeni oddaljenost števila  $x$  od števila 0,  $|x - 1|$  pomeni oddaljenost števila  $x$  od števila 1. Enakost  $|x - 1| = 2$  označuje tista realna števila, ki so od števila 1 oddaljena za 2 (slika (1.2)):  $1 + 2 = 3$  in  $1 - 2 = -1$  sta torej rešitvi enačbe.

(b) Opisani postopek da rešitvi  $x_1 = -1, x_2 = -2$ . Obe ustrezata prvotni enačbi.





Slika 1.2:  $|x - 1| = 2$

- (c) Opisani postopek da rešitvi  $x_1 = 10, x_2 = \frac{-4}{3}$ . Prvotni enačbi ustreza le prva  $x_1 = 10$ .
- (d) Opisani postopek da rešitvi  $x_1 = \frac{1}{5}, x_2 = 1$ . Prvotni enačbi ustreza le druga  $x_2 = 1$ .
- (e) Pri reševanju neenačb oblike

$$|x - a| > (\text{ali } \geq, \leq, <) b$$

uporabimo pomen absolutne vrednosti, omenjen v gornji opombi.

- $|x + 3|$  zapišemo kot  $|x - (-3)|$ .
  - Neenačba  $|x + 3| = |x - (-3)| \leq 2$  sprašuje po tistih številih  $x \in \mathbb{R}$ , ki so od števila  $-3$  oddaljena za 2 ali manj. To so števila z intervala  $x \in [-3 - 2, -3 + 2] = [-5, -1]$ .
- (f)
- Izpostavimo 2:  $2|x - 2| < 4$ .
  - Delimo z 2:  $|x - 2| < 2$ .
  - Kot zgoraj dobimo rešitev:  $x \in (0, 4)$ .
- (g) Sisteme neenačb rešujemo kot v prejšnji nalogi (naloge 8): rešimo vsako neenačbo posebej, rešitev sistema je presek rešitev posameznih enačb.
- Rešitev prve neenačbe:  $x \in (-1, 5)$
  - Rešitev druge neenačbe:  $x \in [1, \infty)$
  - Rešitev  $x \in [1, 5)$
- (h)  $x \in (-9, -2] \cup [4, 7)$
- (i)  $x \in (-4, -1) \cup (3, 5)$

## 1.2 Kompleksna števila

10. Izračunajte:

(a)  $(2 - i)(3 + i\sqrt{2})$

(b)  $(2 + i)^2 + (1 - i)^3$

(c)  $4i^6 + (-2i^3)^3$

(d)  $\frac{5+2i}{1-2i}$

**Rešitev.**

(a) Kompleksna števila seštevamo (odštevamo) po komponentah, množimo (potenciramo) jih kakor dvočlenike.

Račun:  $(2 - i)(3 + i\sqrt{2}) = 6 - 3i + 2\sqrt{2}i - i^2\sqrt{2} =$  (upoštevamo  $i^2 = -1$ )  $= (6 + \sqrt{2}) + (2\sqrt{2} - 3)i$

(b) Kot zgoraj:  $(2 + i)^2 + (1 - i)^3 = -2 - 2i$

(c) Za zaporedne potence števila  $i$  velja:

$$i^2 = -1, i^3 = -i, i^4 = 1, i^5 = i^4 \cdot i = i, \dots \text{ ali}$$

$$i^{4k} = 1, i^{4k+1} = i, i^{4k+2} = -1, i^{4k+3} = -i, k \in \mathbb{N}.$$

Uporabimo gornje v računu:

$$4i^6 + (-2i^3)^3 = 4i^6 + (-2)^3i^9 = 4i^2 - 8i = -4 - 8i.$$

(d) Kompleksna števila delimo tako, da števec in imenovalac množimo z imenovalcu konjugiranim kompleksnim številom.

Račun:  $\frac{5+2i}{1-2i} = \frac{5+2i}{1-2i} \cdot \frac{1+2i}{1+2i} = \frac{1+12i}{5} = \frac{1}{5} + \frac{12}{5}i$

11. Izračunajte  $\operatorname{Re}(z)$ ,  $\operatorname{Im}(z)$ ,  $\bar{z}$ ,  $|z|$  in  $\frac{z-\bar{z}}{1+z\bar{z}}$ , če je  $z = 3 - 4i$ .

**Rešitev.**

- Realna komponenta kompleksnega števila  $z$ :  $\operatorname{Re}(z) = 3$
- Imaginarna komponenta kompleksnega števila  $z$ :  $\operatorname{Im}(z) = -4$
- Številu  $z$  konjugirano kompleksno število  $\bar{z}$  dobimo, če spremenimo predznak imaginarne komponente:  $\bar{z} = 3 + 4i$ .
- Absolutna vrednost kompleksnega števila  $|z|$  pomeni oddaljenost kompleksnega števila  $z$  od izhodišča. Izračunamo jo po Pitagorovem izreku:  $|z| = \sqrt{3^2 + (-4)^2} = \sqrt{25} = 5$

- Račun:  $\frac{z-\bar{z}}{1+z\bar{z}} = \frac{3-4i-(3+4i)}{1+(3-4i)(3+4i)} = \frac{-8i}{26} = \frac{-4i}{13}$

12. Izračunajte  $\operatorname{Im}\frac{|z|+\bar{z}}{z-\bar{z}+1}$ , če je  $z = 3i - 4$ .

**Rešitev.**

- Dano kompleksno število zapišemo urejeno kot  $\operatorname{Re}z + (\operatorname{Im}z)i$ :  
 $z = -4 + 3i$ .

- Račun:  $\operatorname{Im}\frac{|z|+\bar{z}}{z-\bar{z}+1} = \frac{5+(-4-3i)}{-4+3i-(-4-3i)+1} = \frac{1-3i}{1+6i} = \frac{-17}{37} - \frac{9}{37}i$

13. V množici kompleksnih števil rešite naslednje enačbe:

- (a)  $z^2 + 9 = 0$
- (b)  $z^4 + 8z^2 = 0$
- (c)  $x^2 - 4x + 5 = 0$
- (d)  $iz^2 + (2+i)z + 1 = 0$

**Rešitev.**

(a) Enačba  $z^2 = -9$  ima v množici kompleksnih števil rešitvi

$$z_{1,2} = \pm\sqrt{-9} = \pm\sqrt{9}\sqrt{-1} = \pm 3i.$$

- (b)
- Razstavimo:  $z^4 + 8z^2 = z^2(z^2 + 8) = 0$ .
  - Produkt  $z^2(z^2 + 8) = 0$ , če je  $z^2 = 0$  ali  $z^2 + 8 = 0$ .
  - Prva enačba ima rešitvi (oziroma eno dvojno rešitev)  $z_{1,2} = 0$ , rešitvi druge enačbe sta (računamo kot zgoraj)

$$z_{3,4} = \pm\sqrt{8}i = \pm 2\sqrt{2}i.$$

- Dana enačba ima 4 rešitve:

$$z_{1,2} = 0, \quad z_3 = 2\sqrt{2}i, \quad z_4 = -2\sqrt{2}i.$$

(c) Uporabimo formulo za izračun korenov kvadratne enačbe (primerjajte nalogi 2.(h) in 2.(i)).

$$D = -4, \quad \sqrt{D} = 2i$$

$$z_{1,2} = \frac{4 \pm 2i}{2} = 2 \pm i$$

$$z_1 = 2 + i, \quad z_2 = 2 - i$$

Opomba: Kompleksni rešitvi kvadratne enačbe z realnimi koeficienti sta med sabo konjugirani.

- (d) Formula za izračun korenov kvadratne enačbe ( naloga 2.(h)) velja tudi, če koeficienti  $a, b, c$  niso realna števila.

$$D = (2 + i)^2 - 4i = 3, \quad \sqrt{D} = \sqrt{3}$$

$$z_{1,2} = \frac{-2 - i \pm \sqrt{3}}{2i} = \frac{-1}{2} + \frac{2 \pm \sqrt{3}}{2}i$$

$$z_1 = \frac{-1}{2} + \frac{2 + \sqrt{3}}{2}i, \quad z_2 = \frac{-1}{2} + \frac{2 - \sqrt{3}}{2}i$$

14. Poiščite kompleksna števila  $z$ , ki ustrezajo:

- (a)  $|z| + z = 2 + i$
- (b)  $\operatorname{Re}(z - iz) = 0$  in  $\operatorname{Im}(z) = 2$
- (c)  $\operatorname{Re}(z) + \operatorname{Im}(z) = 0$
- (d)  $|z + 1 + i| = 1$  in  $\operatorname{Re}(z + 1 + i) = 0$
- (e)  $|z - 1| = |z - i|$
- (f)  $|z| = 4$
- (g)  $|z - (3 + 4i)| = 2$
- (h)  $|z + i| = 0$
- (i)  $|z + 1 - 2i| = -2$
- (j)  $|z + 2i| \leq 3$

**Rešitev.**

- (a) Če v enačbi nastopa bodisi konjugirana vrednost bodisi absolutna vrednost bodisi realna ali imaginarna komponenta kompleksnega števila  $z$ , iščemo neznanu število  $z$  v obliki  $z = x + yi$ , kjer sta  $x, y \in \mathbb{R}$ .

- Vstavimo  $z = x + yi$  v enačbo in dobimo:

$$\sqrt{x^2 + y^2} + x + yi = 2 + i.$$

- Kompleksni števili sta enaki, če imata enako realno in imaginarno komponento.

Enakost imaginarnih komponent da enačbo  $yi = i$  in rešitev  $y = 1$ .

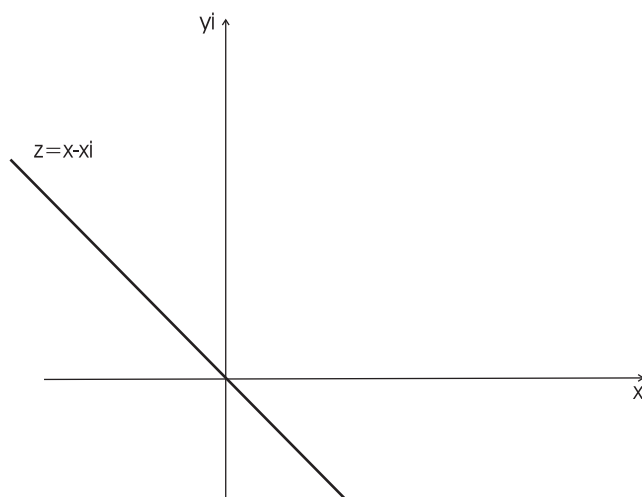
Enakost realnih komponent da enačbo  $\sqrt{x^2 + y^2} + x = 2$  (vstavimo  $y = 1$ )  $= \sqrt{x^2 + 1} + x = 2$  in rešitev  $x = \frac{3}{4}$ .

Iskano kompleksno število je  $z = \frac{3}{4} + i$ .

- (b)
- Postavimo  $z = x + yi$ .
  - Iz druge enačbe dobimo  $\text{Im}z = y = 2$ .
  - Izračunani  $y$  vstavimo v prvo enačbo in dobimo  $\text{Re}(z - iz) = x + y = x + 2 = 0$  z rešitvijo  $x = -2$ .
  - Iskano kompleksno število je  $z = -2 + 2i$ .
- (c) Vstavimo  $z = x + yi$  v enačbo in dobimo  $\text{Re}(z) + \text{Im}(z) = x + y = 0$ , od koder izrazimo  $y = -x$ . Enačbo rešijo vsa kompleksna števila, katerih komponenti sta nasprotno enaki:

$$z = x - xi = (1 - i)x, x \in \mathbb{R}.$$

Ležijo na premici, upodobljeni na sliki (1.3).



Slika 1.3:  $z = x - xi$

- (d)
- Postavimo  $z = x + yi$ .

- Iz druge enačbe dobimo  $\operatorname{Re}(z + 1 + i) = x + 1 = 0$  z rešitvijo  $x = -1$ .
- Izračunani  $x$  vstavimo v prvo enačbo in dobimo  $|z + 1 + i| = |(y + 1)i| = \sqrt{(y + 1)^2} = 1$ .
- Po kvadriranju zadnje enakosti  $\sqrt{(y + 1)^2} = 1$  dobimo kvadratno enačbo  $(y + 1)^2 = 1$  z rešitvama  $y_1 = 0$  in  $y_2 = -2$ .
- Iskani kompleksni števili sta  $z_1 = -1$ ,  $z_2 = -1 - 2i$ .

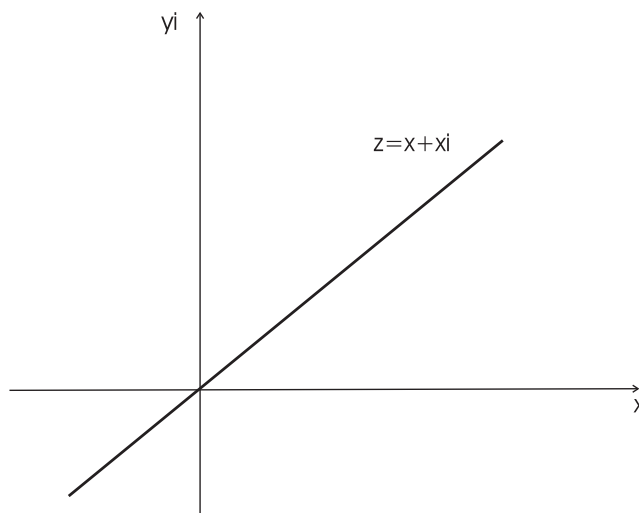
(e) Vstavimo  $z = x + yi$  v enačbo in dobimo

$$\sqrt{(x - 1)^2 + y^2} = \sqrt{x^2 + (y - 1)^2},$$

od koder izrazimo  $y = x$ . Enačbo rešijo vsa kompleksna števila, katerih komponenti sta enaki:

$$z = x + xi = (1 + i)x, x \in \mathbb{R}.$$

Ležijo na premici, upodobljeni na sliki (1.4).



Slika 1.4:  $z = x + xi$

(f) Vstavimo  $z = x + yi$  v enačbo in dobimo  $\sqrt{x^2 + y^2} = 4$  in po kvadriranju  $x^2 + y^2 = 16$ . Enačba predstavlja krožnico s središčem v izhodišču in polmerom enakim 4.

Enačbo lahko rešimo tudi z razmislekom:

$|z|$  pomeni oddaljenost kompleksnega števila  $z$  od izhodišča.  $|z| = 4$  označuje tista kompleksna števila, ki so od izhodišča oddaljena za 4. To so kompleksna števila, ki ležijo na krožnici s središčem v izhodišču in polmerom 4.

- (g)  $|z - (3 + 4i)| = 2$  označuje tista kompleksna števila, ki so od  $3 + 4i$  oddaljena za 2. To so kompleksna števila, ki ležijo na krožnici s središčem v točki  $3 + 4i$  in polmerom 2.
- (h)  $|z + i| = 0$  označuje tista kompleksna števila, ki so od  $-i$  oddaljena za 0. To je točka  $z = -i$ .
- (i)  $|z + 1 - 2i| = -2$  označuje tista kompleksna števila, ki so od  $-1 + 2i$  oddaljena za  $-2$ . Ta množica je prazna.
- (j)  $|z + 2i| \leq 3$  označuje tista kompleksna števila, ki so od  $-2i$  oddaljena za kvečjemu 3. To so števila, ki ležijo v krogu (v notranjosti kroga in na krožnici) s središčem v točki  $-2i$  in polmerom 3.

15. Zapišite kompleksna števila  $z_1 = 7$ ,  $z_2 = -4i$ ,  $z_3 = \sqrt{3} + i$  v polarni obliki.

**Rešitev.**

- Oddaljenost števila  $z_1$  od izhodišča je 7. Kot, ki ga tvori poltrak iz izhodišča skozi  $z_1$  s pozitivnim poltrakom realne osi je 0.

$$z_1 = 7(\cos 0 + i \sin 0)$$

- Oddaljenost števila  $z_2$  od izhodišča je 4. Kot, ki ga tvori poltrak iz izhodišča skozi  $z_2$  s pozitivnim poltrakom realne osi je  $-\frac{\pi}{2}$ .

$$z_2 = 4(\cos(-\frac{\pi}{2}) + i \sin(-\frac{\pi}{2}))$$

- Oddaljenost števila  $z_3$  od izhodišča je  $|z_3| = \sqrt{3 + 1} = 2$ . Kot, ki ga tvori poltrak iz izhodišča skozi  $z_3$  s pozitivnim poltrakom realne osi je  $\arctan \frac{1}{\sqrt{3}} = \frac{\pi}{6}$ .

$$z_3 = 2(\cos(\frac{\pi}{6}) + i \sin(\frac{\pi}{6}))$$

16. Izračunajte potence

- (a)  $(\sqrt{3} + \sqrt{3}i)^5$   
 (b)  $(1 - i)^{100}$

**Rešitev.** Prednost polarnega zapisa kompleksnega števila

$$z = |z|(\cos \varphi + i \sin \varphi)$$

se pokaže pri potenciranju in korenjenju (glejte naslednjo nalogo). Velja:

$$z^n = |z|^n(\cos(n\varphi) + i \sin(n\varphi)).$$

(a) • Dano število zapišemo v polarnem zapisu:

$$\sqrt{3} + \sqrt{3}i = \sqrt{6}(\cos \frac{\pi}{4} + i \sin \frac{\pi}{4}).$$

• Potenciramo z uporabo gornje formule:

$$\begin{aligned}(\sqrt{3} + \sqrt{3}i)^5 &= 6^{\frac{5}{2}}(\cos \frac{5\pi}{4} + i \sin \frac{5\pi}{4}) = \\ &= 36\sqrt{6}(-\frac{\sqrt{2}}{2} - i\frac{\sqrt{2}}{2}) = -36\sqrt{3}(1 + i).\end{aligned}$$

(b) •  $(1 - i) = \sqrt{2}(\cos \frac{-\pi}{4} + i \sin \frac{-\pi}{4})$   
•  $(1 - i)^{100} = 2^{50}(\cos \frac{-100\pi}{4} + i \sin \frac{-100\pi}{4}) =$   
 $= 2^{50}(\cos(-25\pi) + i \sin(-25\pi)) =$   
 $= 2^{50}(\cos(-\pi) + i \sin(-\pi)) = -2^{50}$

17. Rešite enačbi

(a)  $z^5 = -1$

(b)  $z^4 = -1 + i$

**Rešitev.** Rešitev enačbe

$$z^n = r(\cos(\varphi) + i \sin(\varphi))$$

je  $n$  različnih korenov kompleksnega števila  $r(\cos(\varphi) + i \sin(\varphi))$ :

$$z_k = \sqrt[n]{r}(\cos(\frac{\varphi}{n} + \frac{k2\pi}{n}) + i \sin(\frac{\varphi}{n} + \frac{k2\pi}{n})), \quad k = 1, 2, \dots, n - 1.$$



- (a) • Kompleksno število na desni strani enačbe zapišemo v polarni obliki

$$-1 = 1(\cos(\pi) + i \sin(\pi)).$$

- Po gornji formuli zapišemo 5 korenov dane enačbe:

$$z_0 = \cos\left(\frac{\pi}{5}\right) + i \sin\left(\frac{\pi}{5}\right)$$

$$z_1 = \cos\left(\frac{3\pi}{5}\right) + i \sin\left(\frac{3\pi}{5}\right)$$

$$z_2 = \cos\left(\frac{5\pi}{5}\right) + i \sin\left(\frac{5\pi}{5}\right) = \cos(\pi) + i \sin(\pi) = -1$$

$$z_3 = \cos\left(\frac{7\pi}{5}\right) + i \sin\left(\frac{7\pi}{5}\right)$$

$$z_4 = \cos\left(\frac{9\pi}{5}\right) + i \sin\left(\frac{9\pi}{5}\right)$$

Opomba:  $z_2$  je en (edini) realni koren enačbe  $z^5 = -1$ .

- (b) •  $-1 + i = \sqrt{2}(\cos \frac{3\pi}{4} + i \sin \frac{3\pi}{4})$   
 • Rešitve enačbe:

$$z_0 = \sqrt[8]{2}(\cos \frac{3\pi}{16} + i \sin \frac{3\pi}{16})$$

$$z_1 = \sqrt[8]{2}(\cos \frac{11\pi}{16} + i \sin \frac{11\pi}{16})$$

$$z_2 = \sqrt[8]{2}(\cos \frac{19\pi}{16} + i \sin \frac{19\pi}{16})$$

$$z_3 = \sqrt[8]{2}(\cos \frac{27\pi}{16} + i \sin \frac{27\pi}{16})$$



# Poglavje 2

## Matrike

### 2.1 Računanje z matrikami

1. Podana je matrika

$$A = \begin{bmatrix} 2 & 3 \\ -3 & 4 \end{bmatrix} + \begin{bmatrix} 0 & -5 \\ 1 & -2 \end{bmatrix}.$$

Izračunajte

$$\frac{1}{3}(A + A^T).$$

*Rešitev.* Najprej zapišimo matriko  $A$ . Torej

$$A = \begin{bmatrix} 2 & -2 \\ -2 & 2 \end{bmatrix}.$$

Ker je  $A = A^T$ , je

$$A + A^T = A + A = 2A.$$

Iz tega sledi, da je

$$\frac{1}{3}(A + A^T) = \frac{2}{3}A.$$

2. Podani sta matriki

$$A = \begin{bmatrix} 1 & -3 \\ 2 & 0 \end{bmatrix} \quad \text{in} \quad B = \begin{bmatrix} 3 & -1 \\ 0 & 2 \end{bmatrix}.$$

Izračunajte produkt  $AB$  in  $BA$ . Ali matriki komutirata?

**Rešitev.** Produkt matrik je:

$$AB = \begin{bmatrix} 1 & -7 \\ 6 & -2 \end{bmatrix} \quad \text{in} \quad BA = \begin{bmatrix} 1 & -9 \\ 4 & 0 \end{bmatrix}.$$

Matriki ne komutirata, saj je  $AB \neq BA$ .

3. Podani sta matriki

$$A = \begin{bmatrix} -1 & -2 & 4 \\ 2 & 1 & 1 \\ -3 & 0 & 2 \end{bmatrix} \quad \text{in} \quad B = \begin{bmatrix} 3 & -1 & 5 \\ 0 & 2 & -1 \\ 2 & 0 & -2 \end{bmatrix}.$$

Izračunajte produkt  $AB^T$ .

**Rešitev.** Ker je

$$B^T = \begin{bmatrix} 3 & 0 & 2 \\ -1 & 2 & 0 \\ 5 & -1 & -2 \end{bmatrix},$$

je produkt

$$AB^T = \begin{bmatrix} 19 & -8 & -10 \\ 10 & 1 & 2 \\ 1 & -2 & -10 \end{bmatrix}.$$

4. Podani sta matriki

$$A = \begin{bmatrix} -1 & 0 & -4 \\ 3 & 1 & -1 \\ -2 & 5 & 2 \end{bmatrix} \quad \text{in} \quad B = \begin{bmatrix} 1 & -1 & 0 \\ 0 & 2 & -1 \\ 2 & 0 & 2 \end{bmatrix}.$$

Izračunajte  $(3A - B^T)^2$ .

**Rešitev.** Ker je

$$B^T = \begin{bmatrix} 1 & 0 & 2 \\ -1 & 2 & 0 \\ 0 & -1 & 2 \end{bmatrix},$$

je

$$3A - B^T = \begin{bmatrix} -4 & 0 & -14 \\ 10 & 1 & -3 \\ -6 & 16 & 4 \end{bmatrix}.$$

Iz tega sledi, da je

$$(3A - B^T)^2 = \begin{bmatrix} 100 & -224 & 0 \\ -12 & -47 & -155 \\ 160 & 80 & 52 \end{bmatrix}.$$

5. Naj bo dana matrika

$$A = \begin{bmatrix} 2 & -1 & 4 \\ 0 & 7 & -2 \\ 5 & -1 & -3 \end{bmatrix}.$$

Zapišite matriko  $A$  kot vsoto simetrične in poševno simetrične matrike.

**Rešitev.** Kvadratno matriko  $A$  lahko zapišemo kot

$$A = \frac{1}{2}(A + A^T) + \frac{1}{2}(A - A^T),$$

kjer je  $\frac{1}{2}(A + A^T)$  simetrična matrika,  $\frac{1}{2}(A - A^T)$  pa poševno simetrična matrika. Torej moramo zapisati matriki  $\frac{1}{2}(A + A^T)$  in  $\frac{1}{2}(A - A^T)$ . Ker je

$$A^T = \begin{bmatrix} 2 & 0 & 5 \\ -1 & 7 & -1 \\ 4 & -2 & -3 \end{bmatrix},$$

je simetrična matrika

$$\frac{1}{2}(A + A^T) = \frac{1}{2} \begin{bmatrix} 4 & -1 & 9 \\ -1 & 14 & -3 \\ 9 & -3 & -6 \end{bmatrix}$$

in poševno simetrična matrika

$$\frac{1}{2}(A - A^T) = \frac{1}{2} \begin{bmatrix} 0 & -1 & -1 \\ 1 & 0 & -1 \\ 1 & 1 & 0 \end{bmatrix}.$$

6. Naj bo dana matrika

$$A = \begin{bmatrix} 1 & -7 \\ 6 & -2 \end{bmatrix}.$$

Izračunajte determinanto matrike  $A^2$ .

**Rešitev.** Ker je

$$A^2 = \begin{bmatrix} -41 & 7 \\ -12 & -38 \end{bmatrix},$$

je determinanta matrike  $A^2$

$$\det A^2 = (-41) \cdot (-38) - (-12) \cdot 7 = 1642.$$

7. Podani sta matriki

$$A = \begin{bmatrix} 2 & 0 & 5 \\ -1 & 7 & -1 \\ 4 & 7 & -3 \end{bmatrix} \quad \text{in} \quad B = \begin{bmatrix} 1 & 2 & 0 \\ -1 & 3 & -1 \\ -4 & 8 & 1 \end{bmatrix}$$

Izračunajte determinanto matrike  $BA$ .

**Rešitev.** Najprej izračunamo

$$BA = \begin{bmatrix} 0 & 14 & 3 \\ -9 & 14 & -5 \\ -12 & 63 & -31 \end{bmatrix}.$$

Determinanta matrike  $BA$  je  $-4263$ .

8. Dani sta matriki

$$A = \begin{bmatrix} 2 & 0 \\ -1 & 7 \end{bmatrix} \quad \text{in} \quad B = \begin{bmatrix} 1 & 2 \\ -1 & 3 \end{bmatrix}.$$

Rešite matrično enačbo  $AX = B$ .

**Rešitev.** Matrično enačbo  $AX = B$  množimo z leve strani z matriko  $A^{-1}$ . Torej je:

$$\begin{aligned} A^{-1}AX &= A^{-1}B \\ IX &= A^{-1}B \\ X &= A^{-1}B. \end{aligned}$$

Pri tem je  $I$  identična matrika.

Ker je  $X = A^{-1}B$ , moramo najprej poiskati matriko  $A^{-1}$ :

$$A^{-1} = \begin{bmatrix} \frac{1}{2} & 0 \\ \frac{1}{14} & \frac{1}{7} \end{bmatrix}.$$

Torej je

$$X = A^{-1}B = \begin{bmatrix} \frac{1}{2} & 1 \\ -\frac{1}{14} & \frac{4}{7} \end{bmatrix}.$$

9. Podani sta matriki

$$A = \begin{bmatrix} 1 & -5 & 2 \\ -1 & 3 & 0 \\ 2 & -1 & -1 \end{bmatrix} \quad \text{in} \quad B = \begin{bmatrix} 0 & 2 & 0 \\ -1 & -3 & -1 \\ -2 & 7 & 1 \end{bmatrix}.$$

Rešite matrično enačbno  $XA = B$ .

**Rešitev.** Matrično enačbo  $XA = B$  pomnožimo z desne strani z matriko  $A^{-1}$ . Torej je  $X = BA^{-1}$ . Ker je

$$A^{-1} = \frac{1}{8} \begin{bmatrix} 3 & 7 & 6 \\ 1 & 5 & 2 \\ 5 & 9 & 2 \end{bmatrix},$$

je

$$X = \begin{bmatrix} \frac{1}{4} & \frac{5}{4} & \frac{1}{2} \\ -\frac{11}{8} & -\frac{31}{8} & -\frac{7}{4} \\ \frac{3}{4} & \frac{15}{4} & \frac{1}{2} \end{bmatrix}.$$

10. Podani sta matriki

$$A = \begin{bmatrix} 1 & 4 & 0 \\ -1 & 0 & -2 \\ 2 & 3 & -3 \end{bmatrix} \quad \text{in} \quad B = \begin{bmatrix} 1 & 2 & 0 \\ -1 & 3 & -1 \\ -4 & 8 & 1 \end{bmatrix}.$$

Rešite matrično enačbo  $XA + 2X = B$ .

**Rešitev.** Najprej bomo matrično enačbo  $XA + 2X = B$  zapisali drugače:

$$X(A + 2I) = B.$$

Sedaj bomo množili pravkar zapisano matrično enačbo z desne strani z matriko  $(A + 2I)^{-1}$ . Torej je:

$$\begin{aligned} X(A + 2I)(A + 2I)^{-1} &= B(A + 2I)^{-1} \\ XI &= B(A + 2I)^{-1} \\ X &= B(A + 2I)^{-1}. \end{aligned}$$

Vidimo, da moramo najprej zapisati matriko  $A + 2I$ :

$$A + 2I = \begin{bmatrix} 1 & 4 & 0 \\ -1 & 0 & -2 \\ 2 & 3 & -3 \end{bmatrix} + \begin{bmatrix} 2 & 0 & 0 \\ 0 & 2 & 0 \\ 0 & 0 & 2 \end{bmatrix} = \begin{bmatrix} 3 & 4 & 0 \\ -1 & 2 & -2 \\ 2 & 3 & -1 \end{bmatrix}.$$

Naslednji korak je zapisati matriko  $(A + 2I)^{-1}$ :

$$(A + 2I)^{-1} = \begin{bmatrix} \frac{1}{6} & \frac{1}{6} & -\frac{1}{3} \\ \frac{1}{8} & -\frac{1}{8} & \frac{1}{4} \\ \frac{1}{24} & -\frac{17}{24} & \frac{1}{12} \end{bmatrix}.$$

Sedaj lahko zapišemo iskano matriko  $X$ :

$$X = B(A + 2I)^{-1} = \begin{bmatrix} \frac{5}{12} & -\frac{1}{12} & \frac{1}{6} \\ \frac{1}{6} & \frac{1}{6} & \frac{2}{3} \\ \frac{3}{8} & -\frac{19}{8} & \frac{3}{4} \end{bmatrix}.$$



## 2.2 Sistemi linearnih enačb

11. Rešite sistem enačb

$$\begin{aligned}x + y - 2z &= 2 \\ -2x + 2y &= 1 \\ -x - y + 3z &= 0.\end{aligned}$$

*Rešitev.* Sistem bomo rešili s pomočjo Gaussove eliminacije. Najprej zapišimo razširjeno matriko sistema

$$\left[ \begin{array}{ccc|c} 1 & 1 & -2 & 2 \\ -2 & 2 & 0 & 1 \\ -1 & -1 & 3 & 0 \end{array} \right].$$

Pomnožimo prvo vrstico s številom 2 in jo prištejmo drugi vrstici:

$$\left[ \begin{array}{ccc|c} 1 & 1 & -2 & 2 \\ 0 & 4 & -4 & 5 \\ -1 & -1 & 3 & 0 \end{array} \right].$$

Tretji vrstici prištejmo prvo vrstico:

$$\left[ \begin{array}{ccc|c} 1 & 1 & -2 & 2 \\ 0 & 4 & -4 & 5 \\ 0 & 0 & 1 & 2 \end{array} \right].$$

Rešitve sistema dobimo tako, da zaporedoma rešujemo enačbe, ki ustrezajo vrsticam od spodaj navzgor. Torej, iz tretje vrstice dobimo

$$z = 2.$$

Vrednost spremenljivke  $y$  dobimo iz druge vrstice

$$4y - 4z = 5.$$

Če upoštevamo vrednost spremenljivke  $z$ , sledi  $y = \frac{13}{4}$ . Vrednost spremenljivke  $x$  pa dobimo iz prve vrstice

$$x + y - 2z = 2.$$

S pomočjo dobljenih rezultatov lahko izračunamo, da je  $x = \frac{11}{4}$ .

12. Rešite sistem enačb

$$\begin{aligned}x + 3y - 2z &= 5 \\ -2x + 2y + 2z &= 1 \\ 5x - y + z &= 3.\end{aligned}$$

**Rešitev.** Rešitev sistema je

$$x = \frac{7}{8}, \quad y = \frac{11}{8}, \quad z = 0.$$

13. Rešite sistem enačb

$$\begin{aligned}3x - y + 2z &= 7 \\ -5x + y - 2z &= 0 \\ 10x - 2y + 4z &= 6.\end{aligned}$$

**Rešitev.** Sistem nima rešitve.

14. Rešite sistem enačb

$$\begin{aligned}4x - 2y + z &= 1 \\ -x + y - 2z &= 5 \\ -8x + 4y - 2z &= -2.\end{aligned}$$

**Rešitev.** Rešitev sistema je

$$x = \frac{3}{2}z + \frac{11}{2}, \quad y = \frac{7}{2}z + \frac{21}{2}, \quad z \in \mathbb{R}.$$

15. Rešite sistem enačb

$$\begin{aligned}x + y + 3z + q &= 2 \\-5x + z - 2q &= 1 \\3y + 2z - q &= 0 \\-x + 3z &= 3.\end{aligned}$$

*Rešitev.* Rešitev sistema je

$$x = \frac{1}{4}, \quad y = \frac{-11}{12}, \quad z = \frac{13}{12}, \quad q = \frac{-7}{12}.$$



# Poglavje 3

## Vektorji

### 3.1 Osnovne operacije z vektorji

1. V kartezičnem koordinatnem sistemu so dane točke  $A(1, 0, -1)$ ,  $B(0, 2, 1)$  in  $C(-3, 0, -1)$ .
  - (a) Zapišite krajevne vektorje točk  $A$ ,  $B$  in  $C$ .
  - (b) Poiščite koordinate vektorjev  $\vec{AB}$ ,  $\vec{BA}$ ,  $\vec{AC}$  in  $\vec{CB}$ .
  - (c) Izračunajte razdaljo med točkama  $A$  in  $B$  ter dolžino vektorja  $\vec{AB}$ .
  - (d) Izračunajte razdaljo med točkama  $A$  in  $C$  ter dolžino vektorja  $\vec{AC}$ .
  - (e) Zapišite enotski vektor v smeri vektorja  $\vec{AB}$ .
  - (f) Zapišite enotski vektor v smeri vektorja  $\vec{CA}$ .
  - (g) Zapišite vektor dolžine 5 v smeri vektorja  $\vec{AB}$ .
  - (h) Zapišite vektor dolžine 7 v nasprotni smeri vektorja  $\vec{BC}$ .

#### *Rešitev.*

- (a) Krajevni vektor točke  $A$  (oznaka  $\vec{r}_A$ ) je vektor z začetno točko  $O(0, 0, 0)$  in končno točko  $A$ . Njegove koordinate so enake koordinatam točke  $A$ :  $\vec{r}_A = (1, 0, -1)$ .  
 $\vec{r}_B = (0, 2, 1)$   
 $\vec{r}_C = (-3, 0, -1)$
- (b) Koordinate vektorja  $\vec{AB}$  so razlike koordinat točke  $B$  (končna točka) in točke  $A$  (začetna točka):

$$\vec{AB} = (0 - 1, 2 - 0, 1 - (-1)) = (-1, 2, 2).$$

Vektor  $\vec{BA}$  kaže v nasprotno smer kot vektor  $\vec{AB}$ . Njegove koordinate so nasprotne koordinatam vektorja  $\vec{AB}$ :  $\vec{BA} = (1, -2, -2)$ .

$$\vec{AC} = (-4, 0, 0)$$

$$\vec{CB} = (3, 2, 2)$$

Opomba: Opazimo, da je  $\vec{AC} + \vec{CB} = \vec{AB}$  (narišite skico).

- (c) Razdalja med točkama  $A$  in  $B$  je enaka dolžini daljice med točkama  $A$  in  $B$  (oznaka  $|AB|$ , izračunamo jo po Pitagorovem izreku), ta pa je enaka dolžini vektorja  $\vec{AB}$  (oznaka  $|\vec{AB}|$ ):

$$|AB| = |\vec{AB}| = \sqrt{(-1)^2 + 2^2 + 2^2} = 3.$$

(d)  $|AC| = |\vec{AC}| = 4$

- (e) Enotski vektor v smeri vektorja  $\vec{AB}$  (oznaka  $e_{\vec{AB}}$ ) dobimo, če vektor  $\vec{AB}$  delimo z njegovo dolžino:

$$e_{\vec{AB}} = \frac{1}{3}(-1, 2, 2) = \left(-\frac{1}{3}, \frac{2}{3}, \frac{2}{3}\right).$$

(f)  $e_{\vec{CA}} = (1, 0, 0)$

Opomba: To je enotski vektor v pozitivni smeri koordinatne osi  $x$ , oznaka  $\vec{i}$ .

- (g) Iskani vektor  $\vec{v}$  dobimo, če enotski vektor v smeri vektorja  $\vec{AB}$  množimo s 5:

$$\vec{v} = 5e_{\vec{AB}} = \left(-\frac{5}{3}, \frac{10}{3}, \frac{10}{3}\right).$$

- (h) Iskani vektor  $\vec{v}$  dobimo, če enotski vektor v smeri vektorja  $\vec{BC}$  množimo z  $-7$ :

$$\vec{v} = -7 \frac{1}{\sqrt{17}}(-3, -2, -2) = \frac{7}{\sqrt{17}}(3, 2, 2).$$

2. Dane so točke  $A(-2, -1, 0)$ ,  $B(0, 1, 2)$ ,  $C(20, 202, 2)$  in  $D(22, 200, 0)$ . Poiščite koordinate vektorja  $\vec{a} = 2\vec{AB} + \vec{CD}$  in izračunajte njegovo dolžino.

**Rešitev.**

- $\vec{AB} = (2, 2, 2)$ ,  $\vec{CD} = (2, -2, -2)$

- Vektorje seštevamo (odštevamo) in množimo s številom po koordinatah:

$$\begin{aligned}\vec{a} &= 2\vec{AB} + \vec{CD} = \\ &= 2(2, 2, 2) + (2, -2, -2) = (4, 4, 4) + (2, -2, -2) = (6, 2, 2).\end{aligned}$$

- Dolžina vektorja (po Pitagorovem izreku):

$$|\vec{a}| = \sqrt{36 + 4 + 4} = \sqrt{44}$$

3. Dana sta vektorja  $\vec{a} = (0, 1, 0)$  in  $\vec{b} = (1, 0, -1)$ . Izračunajte dolžino vektorja  $3\vec{a} - 2\vec{b}$ .

**Rešitev.** Kot zgoraj izračunamo

- $3\vec{a} - 2\vec{b} = (-2, 3, 2)$
- $|3\vec{a} - 2\vec{b}| = \sqrt{17}$

4. Na osi  $x$  poiščite točko, enako oddaljeno od točk  $A(1, 2, 4)$  in  $B(5, -3, 2)$ .

**Rešitev.** Iskano točko označimo z  $X$ , njene koordinate naj bodo  $X(x, 0, 0)$  (ker leži na osi  $x$ ). Neznano prvo koordinato  $x$  dobimo iz pogoja  $|AX| = |BX|$ . Vstavimo

$$|AX| = \sqrt{(x-1)^2 + (-2)^2 + (-4)^2}, \quad |BX| = \sqrt{(x-5)^2 + 3^2 + (-2)^2}$$

in dobimo (po kvadriranju)

$$(x-1)^2 + 20 = (x-5)^2 + 13$$

z rešitvijo  $x = \frac{17}{8}$ . Iskana točka je  $X(\frac{17}{8}, 0, 0)$ .

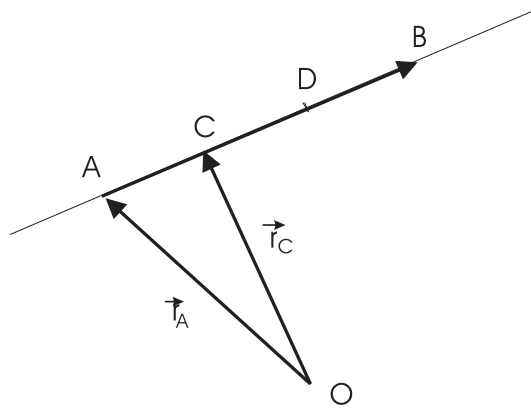
5. Na osi  $z$  poiščite točko, enako oddaljeno od točk  $A(2, -2, 2)$  in  $B(-1, 1, -1)$ .

**Rešitev.** Iskana točka naj ima koordinate  $Z(0, 0, z)$ . Kot zgoraj dobimo  $z = \frac{3}{2}$  in  $Z(0, 0, \frac{3}{2})$ .

6. Dani sta točki  $A(3, 3, 3)$  in  $B(0, 6, 9)$ . Poiščite koordinate točk  $C$  in  $D$ , ki daljico  $AB$  razdelita na 3 enake dele.

**Rešitev.** Koordinate točke  $C$  ( $D$ ) so hkrati koordinate krajevnega vektorja  $\vec{r}_C$  ( $\vec{r}_D$ ). Velja (slika (3.1)):

- $\vec{AB} = (-3, 3, 6)$
- $\vec{r}_C = \vec{r}_A + \frac{1}{3}\vec{AB} = (3, 3, 3) + (-1, 1, 2) = (2, 4, 5)$
- $\vec{r}_D = \vec{r}_A + \frac{2}{3}\vec{AB} = (3, 3, 3) + 2(-1, 1, 2) = (1, 5, 7)$



Slika 3.1:  $\vec{r}_C = \vec{r}_A + \frac{1}{3}\vec{AB}$

7. Izračunajte obseg trikotnika z oglišči  $A(-1, 0, 1)$ ,  $B(2, 3, 4)$  in  $C(-2, 1, 2)$ .

**Rešitev.**

- Obseg je vsota dolžin stranic  $|AB| + |AC| + |BC|$ .
- $|AB| = |\vec{AB}| = \sqrt{27}$   
 $|AC| = |\vec{AC}| = \sqrt{3}$   
 $|BC| = |\vec{BC}| = \sqrt{24}$
- Obseg:  $\sqrt{27} + \sqrt{3} + \sqrt{24}$



8. Vektorja  $\vec{a} = (2, 0, -2)$  in  $\vec{b} = (2, -2, 0)$  določata trikotnik. Pokažite, da je ta trikotnik enakostraničen.

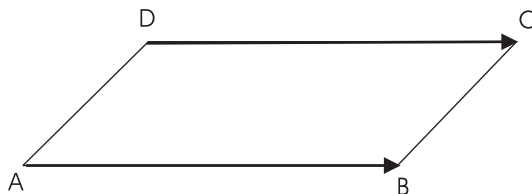
Opomba: Trikotnik v prostoru lahko podamo s koordinatami njegovih oglišč (kot v prejšnji nalogi) ali pa z dvema (nevzporednima) vektorjema, ki predstavljata dve njegovi stranici. Vektor na tretji stranici je  $\vec{c} = \vec{b} - \vec{a}$ . Lega tako podanega trikotnika v prostoru ni natanko določena. Lahko privzamemo, da je eno oglišče v izhodišču,  $\vec{a}$  in  $\vec{b}$  pa sta krajevna vektorja drugih dveh oglišč.

**Rešitev.**

- Dolžine stranic so dolžine vektorjev  $\vec{a}$ ,  $\vec{b}$  in  $\vec{c}$ .
- Velja:  $|\vec{a}| = |\vec{b}| = |\vec{c}| = 2\sqrt{2}$ .
- Dolžine stranic so med seboj enake, trikotnik je enakostraničen.

9. Dane so točke  $A(-1, 0, 2)$ ,  $B(2, 1, 2)$  in  $C(4, -3, 3)$ . Določite koordinate točke  $D$  tako, da bo  $ABCD$  paralelogram. Izračunajte obseg in dolžini diagonal tega paralelograma.

**Rešitev.** Oglišča paralelograma označimo (ponavadi) po vrsti v pozitivni smeri (smeri nasprotni urinemu kazalcu) z  $A, B, C, D$  (slika (3.2)). Vidimo, da sta vektorja  $\vec{AB}$  in  $\vec{DC}$  enaka (ista dolžina, ista smer). Iz tega pogoja dobimo enačbe za neznane koordinate točke  $D(x, y, z)$ .



Slika 3.2: paralelogram  $A, B, C, D$

- Enaka vektorja  $\vec{AB} = (3, 1, 0)$  in  $\vec{DC} = (4 - x, -3 - y, 3 - z)$  imata enake koordinate - torej:  
 $4 - x = 3, x = 1; -3 - y = 1, y = -4; 3 - z = 0, z = 3$ .
- Iskana točka:  $D(1, -4, 3)$

- Obseg:  $2|AB| + 2|BC| = 2(\sqrt{10} + \sqrt{21})$
- Dolžini diagonal:  $|BD| = \sqrt{27}$ ,  $|AC| = \sqrt{35}$

10. Vektorja  $\vec{a} = (-1, 2, 1)$  in  $\vec{b} = (3, 2, 4)$  določata paralelogram. Izračunajte dolžini diagonal tega paralelograma.

Opomba: Tako kot trikotnik lahko tudi paralelogram določimo z dvema nevzporednima vektorjema, ki ležita na nevzporednih stranicah paralelograma.

***Rešitev.***

- Vektorja na diagonalah paralelograma sta  $\vec{a} - \vec{b} = (-4, 0, -3)$  in  $\vec{a} + \vec{b} = (2, 4, 5)$ .
- Njuni dolžini sta  $|\vec{a} - \vec{b}| = 5$  in  $|\vec{a} + \vec{b}| = \sqrt{45}$ .

## 3.2 Produkti, linearna kombinacija

11. Izračunajte skalarni produkt vektorjev  $\vec{a} = (-1, 0, 1)$  in  $\vec{b} = (19, 20, 21)$ .

**Rešitev.** Skalarni produkt vektorjev je vsota produktov njunih istoležnih koordinat:

$$\vec{a} \cdot \vec{b} = (-1) \cdot 19 + 0 \cdot 20 + 1 \cdot 21 = 2.$$

12. Izračunajte skalarni produkt vektorjev  $\vec{a} = (3, 4, 7)$  in  $\vec{b} = (2, -5, 2)$ .

**Rešitev.**  $\vec{a} \cdot \vec{b} = 0$ , kar pomeni, da sta dana vektorja pravokotna.

13. Dana sta vektorja  $\vec{a} = (x, 3, 4)$  in  $\vec{b} = (4, x, -7)$ . Pri kateri vrednosti števila  $x$  sta dana vektorja pravokotna?

**Rešitev.**

- Izračunamo skalarni produkt:  $\vec{a} \cdot \vec{b} = 7x - 28$ .
- Zaradi pravokotnosti mora biti skalarni produkt enak 0, torej  $7x - 28 = 0$  in  $x = 4$ .

14. Izračunajte kot med vektorjema  $\vec{a} = (1, 2, 3)$  in  $\vec{b} = (6, 4, -2)$ .

**Rešitev.** Uporabimo enačbo  $\vec{a} \cdot \vec{b} = |\vec{a}||\vec{b}| \cos \varphi$ , če s  $\varphi$  označimo iskani kot. Izračunamo  $\cos \varphi = \frac{\vec{a} \cdot \vec{b}}{|\vec{a}||\vec{b}|} = \frac{2}{7}$ , od tod  $\varphi = \arccos \frac{2}{7}$ .

15. Izračunajte kote trikotnika, katerega oglišča so v točkah  $A(-1, 0, 1)$ ,  $B(2, 3, 4)$  in  $C(-2, 1, 2)$ .

**Rešitev.**

- Kot pri oglišču  $A$  (oznaka  $\alpha$ ) je kot med vektorjema  $\vec{AB}$  in  $\vec{AC}$ :

$$\cos \alpha = \frac{\vec{AB} \cdot \vec{AC}}{|\vec{AB}||\vec{AC}|} = \frac{1}{3}, \quad \alpha = \arccos \frac{1}{3}.$$

- Kot pri oglišču  $B$  (oznaka  $\beta$ ) je kot med vektorjema  $\vec{BA}$  in  $\vec{BC}$ :

$$\cos \beta = \frac{\vec{BA} \cdot \vec{BC}}{|\vec{BA}||\vec{BC}|} = \frac{\sqrt{24}}{\sqrt{27}}, \quad \beta = \arccos \frac{\sqrt{8}}{9}.$$

- Kot pri oglišču  $C$  (oznaka  $\gamma$ ):

$$\cos \gamma = \frac{\vec{CA} \cdot \vec{CB}}{|\vec{CA}||\vec{CB}|} = 0, \quad \gamma = 90^\circ.$$

Opomba: Trikotnik je pravokoten.

16. Izračunajte vektorski produkt vektorjev  $\vec{a} = (2, 3, 5)$  in  $\vec{b} = (1, 2, 1)$ .

**Rešitev.**

$$\vec{a} \times \vec{b} = \begin{vmatrix} \vec{i} & \vec{j} & \vec{k} \\ 2 & 3 & 5 \\ 1 & 2 & 1 \end{vmatrix} = \vec{i}(3 - 10) - \vec{j}(2 - 5) + \vec{k}(4 - 3) = (-7, 3, 1)$$

Opomba: Vektorski produkt je vektor. Njegova dolžina je enaka ploščini paralelograma, določenega z vektorjema  $\vec{a}$  in  $\vec{b}$ ; njegova smer je pravokotna na ravnino vektorjev  $\vec{a}$  in  $\vec{b}$  (smer desnega vijaka). Obe lastnosti bomo uporabili v naslednjih nalogah.

17. Poiščite enotski vektor  $\vec{v}$ , pravokoten na vektorja  $\vec{a} = (1, 2, 3)$  in  $\vec{b} = (3, 2, 1)$  (to je pravokoten na ravnino, v kateri ležita vektorja  $\vec{a}$  in  $\vec{b}$ ).

**Rešitev.** Uporabimo drugo lastnost vektorskega produkta: vektor, pravokoten na dva dana vektorja ima smer njunega vektorskega produkta ali pa nasprotno smer njunega vektorskega produkta.

- Izračunamo vektorski produkt:  $\vec{a} \times \vec{b} = (-4, 8, -4)$ .

- Poiščemo enotski vektor ( $\vec{e}$ ) v smeri vektorja  $\vec{a} \times \vec{b}$ :  $\vec{e} = \frac{1}{\sqrt{96}}(-4, 8, -4)$ .
- Iskani vektor je enak ali pa nasproten gornjemu enotskemu vektorju:  $\vec{v} = \pm \vec{e} = \pm \frac{1}{\sqrt{96}}(-4, 8, -4)$ .

18. Izračunajte ploščino paralelograma, določenega z vektorjema  $\vec{a} = (2, 5, 1)$  in  $\vec{b} = (1, 2, -3)$ .

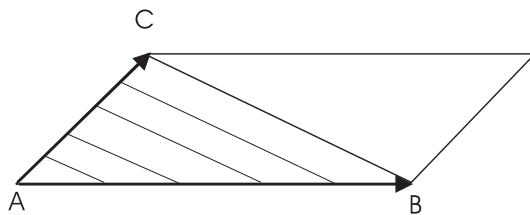
**Rešitev.** Uporabimo prvo lastnost vektorskega produkta.

- Izračunamo vektorski produkt:  $\vec{a} \times \vec{b} = (-17, 7, -1)$ .
- Izračunamo njegovo dolžino:  $|\vec{a} \times \vec{b}| = \sqrt{339}$ .
- Iskana ploščina je enaka gornji dolžini:  $p = \sqrt{339}$ .

19. Izračunajte ploščino trikotnika, katerega oglišča so v točkah  $A(-1, 0, 1)$ ,  $B(2, 3, 4)$  in  $C(-2, 1, 2)$ .

**Rešitev.** Ploščina trikotnika je enaka polovici ploščine paralelograma, določenega z vektorjema  $\vec{AB}$  in  $\vec{AC}$  (slika (3.3)):

$$p = \frac{1}{2} |\vec{AB} \times \vec{AC}| = 3\sqrt{2}.$$



Slika 3.3:  $p = \frac{1}{2} |\vec{AB} \times \vec{AC}|$

20. Izračunajte ploščino trikotnika z oglišči  $A(2, 2, 2)$ ,  $B(4, 0, 3)$  in  $C(0, 1, 0)$ . Izračunajte še vse višine tega trikotnika.

**Rešitev.**

- Kot zgoraj izračunamo ploščino:  $p = \frac{\sqrt{65}}{2}$
- Višino iz oglišča  $C$  (oznaka  $v_C$ ) izračunamo z uporabo geometrijske formule za ploščino trikotnika:

$$p = \frac{1}{2}|AB|v_C,$$

torej

$$v_C = \frac{2p}{|AB|} = \frac{\sqrt{65}}{3}.$$

- Podobno izračunamo ostali višini:

$$v_B = \frac{2p}{|AC|} = \frac{\sqrt{65}}{3}$$

$$v_A = \frac{2p}{|BC|} = \sqrt{\frac{65}{26}}.$$

Opomba: Dani trikotnik je enakokrak ( $|AB| = |AC| = 3$ ).

21. Izračunajte mešani produkt vektorjev  $\vec{a} = (2, -1, -1)$ ,  $\vec{b} = (1, 3, -1)$  in  $\vec{c} = (1, 1, 4)$ .

**Rešitev.**

$$(\vec{a}, \vec{b}, \vec{c}) = \begin{vmatrix} 2 & -1 & -1 \\ 1 & 3 & -1 \\ 1 & 1 & 4 \end{vmatrix} = 33$$

Opomba: Mešani produkt treh vektorjev je skalar. Njegova absolutna vrednost je enaka volumnu paralelepipeda, določenega z vektorji  $\vec{a}$ ,  $\vec{b}$  in  $\vec{c}$ ; predznak predstavlja orientacijo.

22. Izračunajte volumen paralelepipeda, določenega z vektorji  $\vec{a} = (1, -1, 1)$ ,  $\vec{b} = (1, 1, 1)$  in  $\vec{c} = (2, 3, 4)$ .

**Rešitev.** Uporabimo omenjeno lastnost mešanega produkta.

- Izračunamo mešani produkt danih vektorjev:  $(\vec{a}, \vec{b}, \vec{c}) = 4$ .

- Iskani volumen je enak gornjemu mešanemu produktu:  $V = 4$ .

23. Ali so vektorji  $\vec{a} = (7, -3, 2)$ ,  $\vec{b} = (3, -7, 8)$  in  $\vec{c} = (1, -1, 1)$  koplanarni?

**Rešitev.** Če so trije vektorji koplanarni (to je, ležijo v isti ravnini), določajo paralelepiped volumna 0. Torej je njihov mešani produkt enak vrednosti 0.

- Izračunamo mešani produkt:  $(\vec{a}, \vec{b}, \vec{c}) = 0$ .
- Mešani produkt je enak 0, dani vektorji so koplanarni.

24. Izračunajte volumen tetraedra z oglišči  $A(2, 2, 2)$ ,  $B(4, 3, 3)$ ,  $C(4, 5, 4)$  in  $D(5, 5, 6)$ .

**Rešitev.**

- Poiščemo vektorje na stranicah tetraedra, ki izhajajo iz enega od oglišč, na primer iz oglišča  $A$ :  
 $\vec{AB} = (2, 1, 1)$   
 $\vec{AC} = (2, 3, 2)$   
 $\vec{AD} = (4, 3, 4)$ .
- Izračunamo mešani produkt:  $(\vec{AB}, \vec{AC}, \vec{AD}) = 7$ .
- Volumen paralelepipeda, določenega z vektorji  $\vec{AB}$ ,  $\vec{AC}$  in  $\vec{AD}$  je  $|(\vec{AB}, \vec{AC}, \vec{AD})| = 7$ .
- Iz geometrije vemo, da je volumen tetraedra je enak šestini volumna paralelepipeda, določenega z vektorji  $\vec{AB}$ ,  $\vec{AC}$  in  $\vec{AD}$ :

$$V = \frac{1}{6}|(\vec{AB}, \vec{AC}, \vec{AD})| = \frac{7}{6}.$$

25. Izračunajte volumen tetraedra z oglišči  $A(0, 0, 1)$ ,  $B(2, 3, 5)$ ,  $C(6, 2, 3)$  in  $D(3, 7, 2)$ . Izračunajte še vse višine tega tetraedra.

**Rešitev.**

- Kot zgoraj izračunamo volumen:  $V = 20$ .
- Višino iz oglišča  $A$  (oznaka  $v_A$ ) izračunamo z uporabo geometrijske formule za volumen tetraedra

$$V = \frac{1}{3}p_{\Delta BCD}v_A,$$

kjer  $p_{\Delta BCD}$  predstavlja ploščino trikotnika (računamo jo kot v nalogi 19) z oglišči  $B, C$  in  $D$ . Torej

$$v_A = \frac{3V}{p_{\Delta BCD}} = \frac{2 \cdot 3 \cdot 20}{\sqrt{510}} = \frac{4\sqrt{510}}{17}.$$

- Podobno izračunamo ostale višine:

$$v_B = \frac{3V}{p_{\Delta ACD}} = \frac{2 \cdot 3 \cdot 20}{\sqrt{1440}} = \sqrt{10}$$

$$v_C = \frac{3V}{p_{\Delta ABD}} = \frac{2 \cdot 3 \cdot 20}{\sqrt{750}} = \frac{12\sqrt{750}}{75}$$

$$v_D = \frac{3V}{p_{\Delta ABC}} = \frac{2 \cdot 3 \cdot 20}{\sqrt{600}} = 2\sqrt{6}$$

26. Preverite, ali točke  $A(5, 7, -2), B(3, 1, -1), C(9, 4, -4)$  in  $D(1, 5, 0)$  ležijo v isti ravnini.

**Rešitev.** Štiri točke, ki ležijo v isti ravnini, določajo tetraeder volumna enakega 0. Torej je volumen paralelepipeda z robovi  $\vec{AB}, \vec{AC}$  in  $\vec{AD}$  enak 0.

- Izračunamo mešani produkt:  $(\vec{AB}, \vec{AC}, \vec{AD}) = 0$ .
- Mešani produkt (torej tudi volumen paralelepipeda) je enak 0, točke ležijo v isti ravnini.

27. Izrazite vektor  $\vec{d} = (8, 6, 4)$  z vektorji  $\vec{a} = (1, -2, 1), \vec{b} = (3, 2, 1)$  in  $\vec{c} = (1, 0, -1)$ .



**Rešitev.** Izraziti  $\vec{d}$  z vektorji  $\vec{a}, \vec{b}$  in  $\vec{c}$  pomeni zapisati  $\vec{d}$  kot linearno kombinacijo vektorjev  $\vec{a}, \vec{b}$  in  $\vec{c}$ :

$$\vec{d} = \alpha\vec{a} + \beta\vec{b} + \gamma\vec{c}.$$

Zapišemo to enakost v koordinatah

$$(8, 6, 4) = \alpha(1, -2, 1) + \beta(3, 2, 1) + \gamma(1, 0, -1)$$

in dobimo sistem enačb

$$\begin{array}{rcccc} \alpha & + & 3\beta & + & \gamma & = & 8 \\ -2\alpha & + & 2\beta & & & = & 6 \\ \alpha & + & \beta & - & \gamma & = & 4 \end{array}$$

z rešitvijo  $\alpha = 0, \beta = 3, \gamma = -1$ .

Vektor  $\vec{d}$ , zapisan z vektorji  $\vec{a}, \vec{b}$  in  $\vec{c}$ :  $\vec{d} = 3\vec{b} - \vec{c}$

28. Vektor  $\vec{d} = (13, -10, 17)$  zapišite kot linearno kombinacijo vektorjev  $\vec{a} = (3, 1, -1)$ ,  $\vec{b} = (2, -5, 7)$  in  $\vec{c} = (-1, -3, 2)$ .

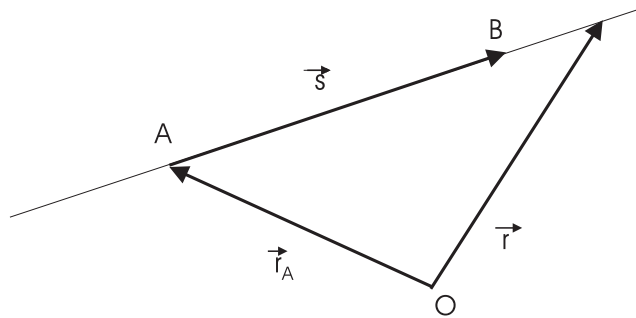
**Rešitev.** Kot zgoraj dobimo  $\vec{d} = 2\vec{a} + 3\vec{b} - \vec{c}$ .

### 3.3 Premica in ravnina v prostoru

29. Zapišite vse tri oblike enačbe premice skozi točki  $A(1, 0, 2)$  in  $B(2, -1, 0)$ .

*Rešitev.*

(a) Enačbo poiščemo najprej v vektorski obliki (slika (3.4)):



Slika 3.4:  $\vec{r} = \vec{r}_A + t\vec{s}$

- Izberemo krajevni vektor neke znane točke na premici (na primer točke  $A$ ):  $\vec{r}_A = (1, 0, 2)$ .
- Smerni vektor premice  $\vec{s}$  je enak vektorju  $\vec{AB}$ , ki leži na premici:  $\vec{s} = \vec{AB} = (1, -1, -2)$ .
- Krajevni vektor poljubne točke na premici  $\vec{r}$  ustreza enačbi - vektorski obliki enačbe premice:

$$\vec{r} = \vec{r}_A + t\vec{s} = (1, 0, 2) + t(1, -1, -2), \quad t \in \mathbb{R}.$$

(b) Zapis po koordinatah (če so  $x, y, z$  koordinate vektorja  $\vec{r}$ ) da parametrično obliko:

$$\begin{aligned}x &= 1 + t \\y &= -t \\z &= 2 - 2t, \quad t \in \mathbb{R}\end{aligned}$$

(c) Eliminacija parametra  $t$  da kanonsko obliko:

- iz prve enačbe:  $t = x - 1$
- iz druge enačbe:  $t = -y$
- iz tretje enačbe:  $t = \frac{z-2}{2}$

$$x - 1 = -y = \frac{z - 2}{2}$$

30. Dana je premica z enačbo  $x - 2 = \frac{y+1}{3} = -z$ .

- (a) Zapišite enačbo dane premice v parametrični obliki.
- (b) Poiščite 3 točke, ki ležijo na dani premici.
- (c) Zapišite enačbo dane premice v vektorski obliki.

**Rešitev.**

(a) Postavimo  $x - 2 = \frac{y+1}{3} = -z = t$  ( $t$  je parameter) in izračunamo:

$$x - 2 = t, x = 2 + t$$

$$\frac{y+1}{3} = t, y = -1 + 3t$$

$$z = -t.$$

S prepisom gornjih enačb dobimo parametrično obliko:

$$x = 2 + t$$

$$y = -1 + 3t$$

$$z = -t, \quad t \in \mathbb{R}$$

(b) Pri različnih vrednostih parametra  $t$  dobimo iz gornjih enačb koordinate različnih točk  $T(x, y, z)$  na premici, na primer:

$$\text{za } t = 0 \text{ dobimo točko } A(2, -1, 0),$$

$$\text{za } t = 1 \text{ dobimo točko } B(3, 2, -1),$$

$$\text{za } t = -1 \text{ dobimo točko } C(1, -4, 1).$$

(c) Gornje enačbe prepisemo v vektorski obliki:

$$(x, y, z) = (2, -1, 0) + t(1, 3, 1)$$

ali

$$\vec{r} = \vec{r}_A + t\vec{s},$$

kjer je  $\vec{r} = (x, y, z)$  krajevni vektor poljubne točke na premici,

$\vec{r}_A$  krajevni vektor točke  $A$ ,

$\vec{s}$  pa vektor, ki leži na premici - smerni vektor.

31. Zapišite enačbo premice, ki vsebuje točko  $T(1, 0, -1)$  in je vzporedna vektorju  $\vec{v} = (2, 1, 0)$ .

**Rešitev.** Smerni vektor iskane premice je enak danemu vektorju:  $\vec{s} = \vec{v}$ . Kot v gornji nalogi dobimo

- vektorsko obliko:  $\vec{r} = r_T \vec{r} + t \vec{s}$ ,  $t \in \mathbb{R}$
- parametrično obliko:

$$\begin{aligned}x &= 1 + 2t \\y &= t \\z &= -1, \quad t \in \mathbb{R}\end{aligned}$$

- kanonsko obliko:

$$\frac{x-1}{2} = y, \quad z = -1.$$

Opomba: Smerni vektor ima koordinato v smeri osi enako 0, zato parametra  $t$  iz tretje enačbe nismo mogli izraziti in enačba v strogi kanonski obliki ne obstaja.

32. Zapišite enačbo ravnine, ki vsebuje točko  $T(2, 3, 5)$  in je pravokotna na vektor  $\vec{n} = (4, 3, 2)$ .

**Rešitev.** Uporabimo enačbo  $(\vec{r} - r_T) \cdot \vec{n} = 0$ , če je  $\vec{r}$  krajevni vektor poljubne točke na ravnini,  $r_T$  krajevni vektor dane točke na ravnini in  $\vec{n}$  normalni vektor na ravnino (slika (3.5)):

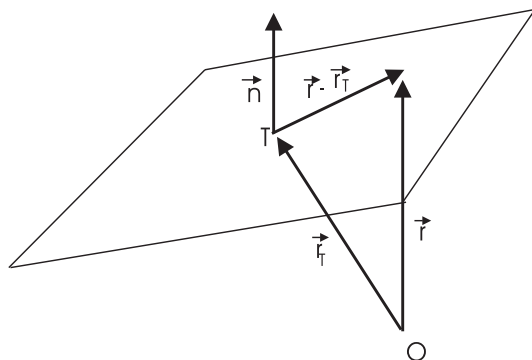
$$\begin{aligned}(\vec{r} - r_T) \cdot \vec{n} &= 0 \\(x - 2, y - 3, z - 5) \cdot (4, 3, 2) &= 0\end{aligned}$$

in po izračunu

$$4x + 3y + 2z - 27 = 0.$$

33. Zapišite enačbo ravnine, ki vsebuje točko  $T(3, -5, 1)$  in je vzporedna ravnini z enačbo  $2x + y + 8z = 10$ .

**Rešitev.**



Slika 3.5:  $(\vec{r} - \vec{r}_T) \cdot \vec{n} = 0$

- Normala iskane ravnine je enaka normali dane ravnine:  $\vec{n} = (2, 1, 8)$ .
- Kot v gornji nalogi dobimo enačbo iskane ravnine:  $2x + y + 8z = 9$ .

34. Zapišite enačbo ravnine, ki vsebuje točko  $T(2, 3, -1)$  in je pravokotna na premico z enačbo  $\frac{x-5}{5} = \frac{y-3}{-3} = \frac{z-2}{2}$ .

**Rešitev.**

- Normala iskane ravnine je enaka smernemu vektorju dane premice:  $\vec{n} = \vec{s} = (5, -3, 2)$ .
- Enačba iskane ravnine:  $5x - 3y + 2z + 1 = 0$ .

35. Zapišite enačbo ravnine, ki vsebuje točke  $A(2, -1, 4)$ ,  $B(3, 2, -1)$  in  $C(3, 0, 6)$ .

**Rešitev.**

- Potrebujemo normalo iskane ravnine - to je vektor, pravokoten na vektorja  $\vec{AB}$  in  $\vec{AC}$ , ki ležita v ravnini. Vektor, pravokoten na dva dana vektorja računamo z vektorskim produktom (glejte nalogo 17):

$$\vec{n} = \vec{AB} \times \vec{AC} = (11, -7, -2).$$

- Enačba ravnine:  $11x - 7y - 2z = 21$ .

36. Določite koordinate presečišča premice  $\frac{x-1}{2} = \frac{y+3}{5} = z - 1$  in ravnine  $2x + 3y + z = 14$ .

**Rešitev.**

- Parametrična oblika enačbe premice da koordinate poljubne točke na premici:

$$\begin{aligned}x &= 1 + 2t \\y &= -3 + 5t \\z &= 1 + t, \quad t \in \mathbb{R}\end{aligned}$$

- Vstavimo jih v enačbo ravnine (koordinate presečišča morajo ustrezati obema - enačbi premice in enačbi ravnine):

$$2(1 + 2t) + 3(-3 + 5t) + (1 + t) = 14.$$

- Iz gornje enačbe izračunamo vrednost parametra  $t$ :  $t = 1$ .
- Izračunano vrednost parametra  $t$  vstavimo v (parametrično) enačbo premice in dobimo koordinate presečišča - točke  $P$ :

$$\begin{aligned}x &= 1 + 2 = 3 \\y &= -3 + 5 = 2 \\z &= 1 + t = 2 \\ \text{presečišče } &P(3, 2, 2).\end{aligned}$$

37. Določite presek ravnin  $2x + 3y - z = -1$  in  $x - y + z = 8$ .

**Rešitev.** Točke, ki so v preseku ravnin morajo ustrezati obema enačbama, torej morajo rešiti sistem enačb

$$\begin{aligned}2x + 3y - z &= -1 \\x - y + z &= 8\end{aligned}$$

Rešitev sistema je:  $x = t$ ,  $y = \frac{7-3t}{2}$ ,  $z = \frac{23-5t}{2}$  ( $t \in \mathbb{R}$ ), kar je parametrična enačba premice

$$\begin{aligned}x &= t \\y &= \frac{7}{2} - \frac{3}{2}t \\z &= \frac{23}{2} - \frac{5}{2}t, \quad t \in \mathbb{R}\end{aligned}$$

# Poglavje 4

## Zaporedja in vrste

### 4.1 Zaporedja

1. Dano je zaporedje s splošnim členom  $a_n = \frac{n+3}{n}$ .
  - (a) Zapišite prvih pet členov tega zaporedja in skicirajte njegov graf.
  - (b) Ali je dano zaporedje monotono (naraščajoče/padajoče)?
  - (c) Ali je dano zaporedje omejeno?
  - (d) Izračunajte limito danega zaporedja.
  - (e) Poiščite natančni meji ( $\inf\{a_n\}, \sup\{a_n\}$ ) danega zaporedja.

*Rešitev.*

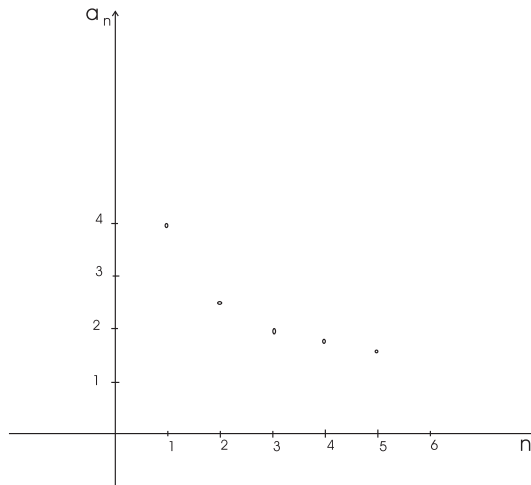
$$\begin{aligned} \text{(a)} \quad a_1 &= \frac{1+3}{1} = 4 \\ a_2 &= \frac{2+3}{2} = \frac{5}{2} \\ a_3 &= \frac{3+3}{3} = 2 \\ a_4 &= \frac{4+3}{4} = \frac{7}{4} \\ a_5 &= \frac{5+3}{5} = \frac{8}{5} \end{aligned}$$

Graf zaporedja je na sliki (4.1).

Opomba: Graf zaporedja sestavljajo (nepovezane) točke s koordinatama  $(n, a_n)$ ,  $n \in \mathbb{N}$ .

- (b) Zaporedje je monotono, če je razlika zaporednih členov  $a_{n+1} - a_n$  konstantnega predznaka.

- Izračunamo razliko:  $a_{n+1} - a_n = \frac{(n+1)+3}{n+1} - \frac{n+3}{n} = \frac{-3}{n(n+1)}$ .



Slika 4.1:  $a_n = \frac{n+3}{n}$

- Dobljeni količnik je pri vsakem naravnem  $n$  negativen (negativen števec  $-3$ , pozitiven imenovalec  $n(n+1)$ ).
  - Zaporedje je monotono, je padajoče (razlika je negativna).
- (c) Zaporedje je omejeno.
- Vsi členi so pozitivni, torej je navzdol omejeno. Število  $S = 0$  (na primer) je spodnja meja zaporedja.
  - Zaporedje je padajoče, torej je navzgor omejeno. Prvi člen zaporedja  $a_1 = 4$  (na primer) je zgornja meja zaporedja.
- (d) Splošni člen zaporedja  $a_n$  preoblikujemo

$$a_n = \frac{n+3}{n} = \frac{1 + \frac{3}{n}}{1},$$

od koder odčitamo (z uporabo znane limite  $\lim_{n \rightarrow \infty} \frac{1}{n} = 0$ )

$$\lim_{n \rightarrow \infty} a_n = 1.$$

- (e) Zaporedje je padajoče in konvergentno.
- Prvi člen zaporedja je natančna zgornja meja (oznaka  $M$  ali  $\sup\{a_n\}$ ) zaporedja:  $M = a_1$ . Natančna zgornja meja pripada zaporedju.
  - Limita zaporedja je natančna spodnja meja (oznaka  $m$  ali  $\inf\{a_n\}$ ) zaporedja:  $m = \lim_{n \rightarrow \infty} a_n = 1$ . Natančna spodnja meja ni člen zaporedja, ne pripada zaporedju.



2. Dano je zaporedje s splošnim členom  $a_n = \frac{1}{(2n-21)^2}$ .

- (a) Zapišite prvih pet členov tega zaporedja.
- (b) Ali je dano zaporedje monotono (naraščajoče/padaajoče)?
- (c) Ali je dano zaporedje omejeno?
- (d) Izračunajte limito danega zaporedja.
- (e) Poiščite natančni meji ( $\inf\{a_n\}, \sup\{a_n\}$ ) danega zaporedja.

**Rešitev.**

(a)  $a_1 = \frac{1}{19^2}, a_2 = \frac{1}{17^2}, a_3 = \frac{1}{15^2}, a_4 = \frac{1}{13^2}, a_5 = \frac{1}{11^2}$

(b) • Izračunamo razliko:  $a_{n+1} - a_n = \frac{-8n+80}{(2n-19)^2(2n-21)^2}$ .

• Imenovalec je pozitiven, predznak razlike je enak predznaku števca.

•  $-8n + 80 > 0$ , če  $n < 10$ .

Od prvega do devetega ( $n < 10$ ) člena velja  $a_{n+1} - a_n > 0$ , torej je zaporedje od prvega do (vključno) desetega člena naraščajoče.

•  $-8n + 80 = 0$ , če  $n = 10$ .

Velja  $a_{11} - a_{10} = 0$ , torej je enajsti člen tega zaporedja enak desetemu.

•  $-8n + 80 < 0$ , če  $n > 10$ .

Od enajstega ( $n > 10$ ) člena naprej velja  $a_{n+1} - a_n < 0$ , torej je zaporedje od enajstega člena naprej padaajoče.

Opomba: Napačno je ugotavljati monotonost zaporedja na osnovi nekaj začetnih členov zaporedja. Za dano zaporedje bi po prvih petih členih napačno sklepali, da je zaporedje naraščajoče.

(c) Zaporedje je omejeno.

- Vsi členi so pozitivni, torej je zaporedje navzdol omejeno.
- Deseti oziroma enajsti člen sta največja člena zaporedja, torej je zaporedje navzgor omejeno.

(d)

$$a_n = \frac{1}{4n^2 - 84n + 441} = \frac{\frac{1}{n^2}}{4 - \frac{84}{n} + \frac{441}{n^2}}$$
$$\lim_{n \rightarrow \infty} a_n = 0$$

- (e) Glede na naraščanje in padanje zaporedja je:  
 $\inf\{a_n\}$  manjši izmed  $a_1$  in  $\lim_{n \rightarrow \infty} a_n$

$$\inf\{a_n\} = \lim_{n \rightarrow \infty} a_n = 0,$$

$\sup\{a_n\}$  deseti oziroma enajsti člen zaporedja

$$\sup\{a_n\} = a_{10} = a_{11} = 1.$$

3. Dano je zaporedje s splošnim členom  $a_n = \frac{2^n}{3^{n+1}}$ .

- (a) Zapišite prvih pet členov tega zaporedja.  
(b) Ali je dano zaporedje monotono (naraščajoče/padajoče)?  
(c) Ali je dano zaporedje omejeno?  
(d) Izračunajte limito danega zaporedja.  
(e) Poiščite natančni meji ( $\inf\{a_n\}, \sup\{a_n\}$ ) danega zaporedja.

**Rešitev.**

- (a)  $a_1 = \frac{2}{9}, a_2 = \frac{4}{27}, a_3 = \frac{8}{81}, a_4 = \frac{16}{243}, a_5 = \frac{32}{729}$   
(b) padajoče  
(c) je omejeno (padajoče in pozitivno)  
(d) Uporabimo znano limito  $\lim_{n \rightarrow \infty} a^n = 0$ , če  $|\alpha| < 1$ .

$$\lim_{n \rightarrow \infty} a_n = \frac{1}{3} \lim_{n \rightarrow \infty} \left(\frac{2}{3}\right)^n = \frac{1}{3} \cdot 0 = 0$$

4. Koliko členov zaporedja s splošnim členom  $a_n = \frac{n+3}{n}$  leži na intervalu  $[1.3, 1.4]$ ?

**Rešitev.** Poiščemo tiste člene zaporedja, ki ustrezajo neenačbama

$$1.3 \leq a_n \leq 1.4.$$

- Rešitev sistema neenačb  $1.3 \leq \frac{n+3}{n} \leq 1.4$  je:  $7.5 \leq n \leq 10$ .

- Naravna števila, ki ustrezajo gornji rešitvi so: 8, 9 in 10.
- Trije členi ( $a_8, a_9$  in  $a_{10}$ ) ležijo na danem intervalu.

Opomba: Dano zaporedje je zaporedje iz naloge 1.

5. Koliko členov zaporedja s splošnim členom  $a_n = \frac{n+2}{2n}$  je večjih od  $\frac{3}{4}$ ?

**Rešitev.** Poiščemo tiste člene zaporedja, ki ustrezajo neenačbi  $a_n > \frac{3}{4}$ .

- Rešitev neenačbe  $\frac{n+2}{2n} > \frac{3}{4} : n < 4$
- $n = 1, 2$  ali  $3$
- Trije členi:  $a_1, a_2$  in  $a_3$

6. Poiščite vse člene zaporedja  $a_n = \frac{4n+3}{6n-5}$ , ki ležijo v  $\epsilon$ -okolici limite, če je  $\epsilon = \frac{1}{5}$ .

**Rešitev.**

- Izračunamo limito zaporedja (oznaka  $a$ )

$$a = \lim_{n \rightarrow \infty} \frac{4n+3}{6n-5} = \lim_{n \rightarrow \infty} \frac{4 + \frac{3}{n}}{6 - \frac{5}{n}} = \frac{2}{3}$$

- Rešimo neenačbo  $|a_n - a| < \epsilon$

$$\left| \frac{4n+3}{6n-5} - \frac{2}{3} \right| < \frac{1}{5}$$

$$\left| \frac{19}{3(6n-5)} \right| < \frac{1}{5}$$

Izraz v absolutni vrednosti je zmeraj pozitiven, zato nadalje znak absolutne vrednosti izpustimo.

$$\frac{19}{3(6n-5)} < \frac{1}{5}$$

$$3(6n-5) > 5 \cdot 19$$

$$6n > \frac{95}{3} + 5 = 36 + \frac{2}{3}$$

$$n > 6 + \frac{2}{18}$$

- Neenačbi ustrezajo  $n \geq 7$ .
- V dani okolici ležijo členi od vključno sedmega člena naprej.

7. Poiščite vse člene zaporedja  $a_n = \frac{3n^2+1}{5n^2-1}$ , ki ležijo izven  $\epsilon$ -okolice limite, če je  $\epsilon = 0.01$ .

*Rešitev.*

•

$$a = \lim_{n \rightarrow \infty} a_n = \lim_{n \rightarrow \infty} \frac{3 + \frac{1}{n^2}}{5 - \frac{1}{n^2}} = \frac{3}{5}$$

- Izven okolice ležijo členi, ki ustrezajo neenačbi  $|a_n - a| \geq \epsilon$ .

$$\left| \frac{3n^2 + 1}{5n^2 - 1} - \frac{3}{5} \right| \geq \frac{1}{100}$$

$$n^2 \leq \frac{161}{5} = 32.2$$

$$n \leq 5$$

- Izven dane okolice leži prvih pet členov zaporedja.

8. Ugotovite, ali je dano zaporedje konvergentno in izračunajte njegovo lim-  
ito:

(a)  $a_n = \frac{1000}{n^2+1}$

(b)  $a_n = \frac{-2}{\sqrt{n}}$

(c)  $a_n = \frac{3n^2+204n-1}{5n^2-77n}$

(d)  $a_n = \frac{3(n-3)^2}{n+99}$

(e)  $a_n = \frac{\sqrt[3]{n^3+n}}{n+4}$

(f)  $a_n = \frac{n^2}{n-1} - \frac{n^2}{n+1}$

(g)  $a_n = \sqrt{n+2} - \sqrt{n}$

(h)  $a_n = \sqrt{n^2+5n} - n$

(i)  $a_n = \left(-\frac{1}{2}\right)^n$

$$(j) a_n = 20 \cdot \left(\frac{1}{4}\right)^n$$

**Rešitev.** Uporabimo znani limiti

$$\lim_{n \rightarrow \infty} \frac{1}{n} = 0$$

in

$$\lim_{n \rightarrow \infty} \alpha^n = 0, \text{ če } |\alpha| < 1$$

ter lastnosti limit.

$$(a) \lim_{n \rightarrow \infty} a_n = 0$$

$$(b) \lim_{n \rightarrow \infty} a_n = 0$$

(c) V nalogah (c) do (h) preoblikujemo splošni člen zaporedja tako, da števec in imenovalc delimo z  $n$  (stopnja imenovalca).

$$a_n = \frac{(3n^2 + 204n - 1) : n^2}{(5n^2 - 77n) : n^2} = \frac{3 + \frac{204}{n} - \frac{1}{n^2}}{5 - \frac{77}{n}}$$

$$\lim_{n \rightarrow \infty} a_n = \frac{3}{5}$$

(d)

$$a_n = \frac{3n^2 - 18n + 27}{n + 99} = \frac{3n - 18 + \frac{27}{n}}{1 + \frac{99}{n}}$$

$$\lim_{n \rightarrow \infty} a_n = \infty$$

(e)

$$a_n = \frac{\sqrt[3]{n^3 + n} : \sqrt[3]{n^3}}{(n + 4) : n} = \frac{\sqrt[3]{1 + \frac{1}{n^3}}}{1 + \frac{4}{n}}$$

$$\lim_{n \rightarrow \infty} a_n = 1$$

(f)

$$a_n = (\text{odštejemo}) = \frac{n^2(n + 1) - n^2(n - 1)}{(n - 1)(n + 1)} = \frac{2n^2}{n^2 - 1}$$

$$\lim_{n \rightarrow \infty} a_n = 2$$

(g)

$$\begin{aligned} a_n &= \sqrt{n+2} - \sqrt{n} = (\text{odštejemo}) = \\ &= \frac{(\sqrt{n+2} - \sqrt{n}) \cdot (\sqrt{n+2} + \sqrt{n})}{\sqrt{n+2} + \sqrt{n}} = \frac{2}{\sqrt{n+2} + \sqrt{n}} \\ \lim_{n \rightarrow \infty} a_n &= 0 \end{aligned}$$

(h)

$$\begin{aligned} a_n &= (\text{odštejemo kot zgoraj}) = \frac{5n}{\sqrt{n^2 + 5n} + n} = \frac{5}{\sqrt{1 + \frac{5}{n}} + 1} \\ \lim_{n \rightarrow \infty} a_n &= \frac{5}{2} \end{aligned}$$

(i)  $\lim_{n \rightarrow \infty} a_n = 0$  (ker za osnovo  $\frac{-1}{2}$  velja  $|- \frac{1}{2}| < 1$ )

(j)  $\lim_{n \rightarrow \infty} a_n = 20 \cdot \lim_{n \rightarrow \infty} (\frac{1}{4})^n = 0$

9. Izračunajte limite danih zaporedij:

(a)  $a_n = (1 + \frac{1}{n})^{20n}$

(b)  $a_n = (1 - \frac{1}{n})^{-n}$

(c)  $a_n = (1 + \frac{1}{n})^{3n+4}$

(d)  $a_n = (\frac{n}{n+1})^n$

**Rešitev.** Uporabimo znano limito

$$\lim_{n \rightarrow \infty} (1 + \frac{1}{n})^n = e$$

in lastnosti limit.

(a)

$$a_n = ((1 + \frac{1}{n})^n)^{20}$$

$$\lim_{n \rightarrow \infty} a_n = (\lim_{n \rightarrow \infty} (1 + \frac{1}{n})^n)^{20} = e^{20}$$

(b)

$$\begin{aligned} a_n &= \left(\frac{n-1}{n}\right)^{-n} = \left(\frac{n}{n-1}\right)^n = \left(1 + \frac{1}{n-1}\right)^{n-1+1} = \\ &= \left(1 + \frac{1}{n-1}\right)^{n-1} \left(1 + \frac{1}{n-1}\right) \\ \lim_{n \rightarrow \infty} a_n &= \lim_{n \rightarrow \infty} \left(1 + \frac{1}{n-1}\right)^{n-1} \lim_{n \rightarrow \infty} \left(1 + \frac{1}{n-1}\right) = e \cdot 1 = e \end{aligned}$$

(c)

$$\begin{aligned} a_n &= \left(1 + \frac{1}{n}\right)^3 \left(1 + \frac{1}{n}\right)^4 \\ \lim_{n \rightarrow \infty} a_n &= \left(\lim_{n \rightarrow \infty} \left(1 + \frac{1}{n}\right)^3\right) \lim_{n \rightarrow \infty} \left(1 + \frac{1}{n}\right)^4 = e^3 \cdot 1 = e^3 \end{aligned}$$

(d)

$$\begin{aligned} a_n &= \left(\frac{n+1}{n}\right)^{-n} = \frac{1}{\left(1 + \frac{1}{n}\right)^n} \\ \lim_{n \rightarrow \infty} a_n &= \frac{1}{e} \end{aligned}$$

## 4.2 Vrste

10. Izračunajte vsote:

- (a)  $\sum_{k=1}^{10} (2(k-1) + 3)$
- (b)  $\sum_{k=0}^5 4 \cdot 2^k$
- (c)  $\sum_{k=5}^{20} \left( \frac{3(k+3)}{8} - \frac{3^k}{243} \right)$

### *Rešitev.*

- (a) Sešteti moramo 10 členov aritmetičnega zaporedja s prvim členom  $a_1 = 2(1-1) + 3 = 3$ , zadnjim členom  $a_{10} = 2(10-1) + 3 = 21$  in razliko  $d = 2$ . Vsota je enaka

$$S_{10} = \frac{a_1 + a_{10}}{2} \cdot 10 = 120.$$

- (b) Sešteti moramo 6 členov geometrijskega zaporedja s prvim členom  $a_1 = 4 \cdot 2^0 = 4$ , zadnjim členom  $a_6 = 4 \cdot 2^5 = 128$  in koločnikom  $q = 2$ . Vsota je enaka

$$S_6 = a_1 \frac{q^6 - 1}{q - 1} = 508$$

- (c) Vsoto zapišemo kot

$$\sum_{k=5}^{20} \frac{3(k+3)}{8} - \sum_{k=5}^{20} \frac{3^k}{243}.$$

- Prva vsota predstavlja 16 členov aritmetičnega zaporedja s prvim členom (ko je  $k = 5$ )  $a_1 = 3$ , zadnjim členom ( $k = 20$ )  $a_{16} = \frac{69}{8}$ , razliko  $d = \frac{3}{8}$  in vsoto  $S_{16} = 93$ .
- Druga vsota predstavlja 16 členov geometrijskega zaporedja s prvim členom  $a_1 = 1$ , zadnjim členom  $a_{16} = 3^{15}$ , količnikom  $q = 3$  in vsoto  $S_{16} = \frac{3^{16}-1}{2}$ .
- $\sum_{k=5}^{20} \left( \frac{3(k+3)}{8} - \frac{3^k}{243} \right) = 93 - \frac{3^{16}-1}{2}$

11. Izračunajte vsoto geometrijske vrste.



- (a)  $\sum_{k=1}^{\infty} \frac{(-1)^k}{2^k}$   
 (b)  $\sum_{k=1}^{\infty} \left(\frac{5}{2}\right)^{-k}$

**Rešitev.** Geometrijska vrsta  $\sum_{k=1}^{\infty} a_1 q^{k-1}$  je konvergentna, če je količnik zaporednih členov  $|q| < 1$ ; njena vsota (oznaka  $S$ ) je

$$S = \sum_{k=1}^{\infty} a_1 q^{k-1} = \frac{a_1}{1-q}.$$

- (a)  $a_1 = \frac{-1}{2}$ ,  $q = \frac{-1}{2}$ ,  $S = \frac{\frac{-1}{2}}{1+\frac{1}{2}} = -\frac{1}{3}$   
 (b)  $a_1 = \frac{2}{5}$ ,  $q = \frac{2}{5}$ ,  $S = \frac{\frac{2}{5}}{1-\frac{2}{5}} = \frac{2}{3}$

12. Preverite, da je dana vrsta konvergentna geometrijska vrsta in izračunajte njeno vsoto.

- (a)  $1 + \frac{1}{3} + \frac{1}{9} + \dots$   
 (b)  $\frac{1}{2} - \frac{1}{4} + \frac{1}{8} - \dots$

**Rešitev.** Dana vrsta konvergentna geometrijska vrsta, če velja:

- $\frac{a_2}{a_1} = \frac{a_3}{a_2}$
- $\left|\frac{a_2}{a_1}\right| < 1$

V tem primeru označimo  $\frac{a_2}{a_1} = q$  in izračunamo vsoto  $S$  po gornji formuli.

- (a)  $a_1 = 1$ ,  $q = \frac{1}{3}$ ,  $S = \frac{1}{1-\frac{1}{3}} = \frac{3}{2}$   
 (b)  $a_1 = \frac{1}{2}$ ,  $q = \frac{-1}{2}$ ,  $S = \frac{\frac{1}{2}}{1+\frac{1}{2}} = \frac{1}{3}$

13. Ugotovite, ali sta dani vrsti konvergentni:

- (a)  $\sum_{k=1}^{\infty} \frac{k}{3k+7}$   
 (b)  $\sum_{k=2}^{\infty} \frac{k}{k^2-1}$

**Rešitev.**

- (a) Če je vrsta  $\sum_{k=1}^{\infty} a_k$  konvergentna, potem velja  $\lim_{k \rightarrow \infty} a_k = 0$ .  
Za dano vrsto velja  $\lim_{k \rightarrow \infty} a_k = \frac{1}{3} \neq 0$ , torej vrsta ni konvergentna.
- (b) Dano vrsto členoma primerjamo z znano harmonično vrsto  $\sum_{k=2}^{\infty} \frac{1}{k}$ , ki ni konvergentna. Za vsak člen  $k$  velja:

$$a_k = \frac{k}{k^2 - 1} > \frac{k}{k^2} = \frac{1}{k}.$$

Vsak člen dane vrste je večji od ustreznega člena znane divergentne vrste, torej je tudi dana vrsta divergentna (primerjalni kriterij).

14. Z uporabo kvocientnega (D'Alembertovega) kriterija ugotovite, ali so dane vrste konvergentne:

- (a)  $\sum_{k=1}^{\infty} \frac{k}{k^3+3}$   
(b)  $\sum_{k=1}^{\infty} \frac{101^k}{k!}$   
(c)  $\sum_{k=1}^{\infty} \frac{2000k}{2^k}$

**Rešitev.** Ugotavljanje konvergence vrst s pozitivnimi členi z uporabo kvocientnega kriterija:

- izračunamo limito (oznaka  $L$ ) dveh zaporednih členov vrste (če obstaja)

$$\lim_{k \rightarrow \infty} \frac{a_{k+1}}{a_k} = L$$

- če  $L < 1$ , vrsta konvergira  
če  $L > 1$ , vrsta divergira  
če  $L = 1$ , kvocientni kriterij ne da odgovora o konvergenci vrste

(a)  $L = \lim_{k \rightarrow \infty} \frac{\frac{k+1}{(k+1)^3+3}}{\frac{k}{k^3+3}} = 1$ , ni odgovora

(b)  $L = \lim_{k \rightarrow \infty} \frac{\frac{101^{k+1}}{(k+1)!}}{\frac{101^k}{k!}} = \lim_{k \rightarrow \infty} \frac{101}{k+1} = 0 < 1$ , konvergira

(c)  $L = \lim_{k \rightarrow \infty} \frac{\frac{2000(k+1)}{2^{k+1}}}{\frac{2000k}{2^k}} = \lim_{k \rightarrow \infty} \frac{k+1}{2k} = \frac{1}{2} < 1$ , konvergira

15. Z uporabo korenskega (Cauchyjevega) kriterija ugotovite, ali so dane vrste konvergentne:

(a)  $\sum_{k=1}^{\infty} \left(\frac{k-1}{3k-2}\right)^k$

(b)  $\sum_{k=1}^{\infty} \left(\frac{k}{k+1}\right)^{k^2}$

(c)  $\sum_{k=1}^{\infty} (\sqrt{k^2 - 1} - k)^k$

**Rešitev.** Ugotavljanje konvergence vrst s pozitivnimi členi z uporabo korenskega kriterija:

- izračunamo limito (oznaka  $L$ )  $k$ -tega korena iz  $k$ -tega člena (če obstaja)

$$\lim_{k \rightarrow \infty} \sqrt[k]{a_k} = L$$

- če  $L < 1$ , vrsta konvergira
- če  $L > 1$ , vrsta divergira
- če  $L = 1$ , korenski kriterij ne da odgovora o konvergenci vrste

(a)  $L = \lim_{k \rightarrow \infty} \frac{k-1}{3k-2} = \frac{1}{3} < 1$ , konvergira

(b)  $L = \lim_{k \rightarrow \infty} \left(\frac{k}{k+1}\right)^k = (\text{naloga 9.c}) = \frac{1}{e} < 1$ , konvergira

(c)  $L = \lim_{k \rightarrow \infty} (\sqrt{k^2 - 1} - k) = (\text{računamo kot nalogi 8.g in f}) = 0$ ,  
 $0 < 1$ , konvergira

16. Ugotovite, ali sta dani (alternirajoči) vrsti konvergentni. Ali sta absolutno konvergentni?

(a)  $\sum_{k=1}^{\infty} \frac{(-1)^k}{2k}$

(b)  $\sum_{k=2}^{\infty} \frac{(-1)^k k}{k^2 - 1}$

**Rešitev.**

- Alternirajoča vrsta  $\pm \sum_{k=1}^{\infty} (-1)^k a_k$  ( $a_k > 0$ ) je konvergentna, če
  - je zaporedje  $\{a_k\}_{k \in \mathbb{N}}$  padajoče
  - je  $\lim_{k \rightarrow \infty} a_k = 0$

- Alternirajoča vrsta  $\pm \sum_{k=1}^{\infty} (-1)^k a_k$  ( $a_k > 0$ ) je absolutno konvergentna, če je konvergentna vrsta  $\sum_{k=1}^{\infty} a_k$ . Absolutno konvergenco preverimo po enem od gornjih kriterijev.
- (a)
- Zaporedje  $\{\frac{1}{2k}\}_{k \in \mathbb{N}}$  je padajoče,  $\lim_{k \rightarrow \infty} \frac{1}{2k} = 0$ , vrsta je konvergentna.
  - Vrsta ni absolutno konvergentna;  $\sum_{k=1}^{\infty} \frac{1}{2k} = \frac{1}{2} \sum_{k=1}^{\infty} \frac{1}{k}$  je harmonična vrsta, ki ni konvergentna (naloga 13.b).
- (b)
- Zaporedje  $\{\frac{k}{k^2-1}\}_{k \geq 2}$  je padajoče,  $\lim_{k \rightarrow \infty} \frac{k}{k^2-1} = 0$ , vrsta je konvergentna.
  - Vrsta ni absolutno konvergentna;  $\sum_{k=2}^{\infty} \frac{k}{k^2-1}$  ni konvergentna (naloga 13.b).

# Poglavje 5

## Funkcije ene spremenljivke

1. Naj bo  $f(x) = 2 + xe^{\frac{3}{x^2}}$ . Izračunajte:  $f(1)$ ,  $f(0)$ ,  $f(\sqrt{3})$ .

**Rešitev.** Ni težko preveriti, da je

$$\begin{aligned}f(1) &= 2 + 1 \cdot e^{\frac{3}{1^2}} = 2 + e^3 \\f(\sqrt{3}) &= 2 + \sqrt{3}e^{\frac{3}{(\sqrt{3})^2}} = 2 + \sqrt{3}e^{\frac{3}{3}}.\end{aligned}$$

V točki  $x = 0$  funkcija  $f$  ni definirana.

2. Zapišite definicijsko območje funkcije:

- (a)  $f(x) = \sqrt{x+7}$
- (b)  $f(x) = \frac{3+2x}{4-x^2}$
- (c)  $f(x) = 4 \ln(x^2 - 9)$
- (d)  $f(x) = 2 \arctan(1 - x^2)$
- (e)  $f(x) = 5 \ln(3 - \sqrt{2x+4})$

**Rešitev.**

- (a) Ker mora biti  $x + 7 \geq 0$ , je  $D_f = \{x \in \mathbb{R} \mid x \geq -7\}$ .
- (b) Ker mora biti  $4 - x^2 \neq 0$ , je  $D_f = \mathbb{R} \setminus \{-2, 2\}$ .
- (c) Ker mora biti  $x^2 - 9 > 0$ , je  $D_f = \{x \in \mathbb{R} \mid x < -3 \text{ in } x > 3\}$ .
- (d) V tem primeru je  $D_f = \mathbb{R}$ .

(e) Ker mora biti  $3 - \sqrt{2x+4} > 0$  in  $2x+4 \geq 0$ , je  $D_f = \{x \in \mathbb{R} \mid x \geq -2 \text{ in } x < \frac{5}{2}\}$ .

3. Dani sta funkciji  $f(x) = -3x + 2$  in  $g(x) = 5x^2 + 3$ . Zapišite funkcije:

(a)  $(f + g)(x)$

(b)  $(f \circ g)(x)$

(c)  $(g \circ f)(x)$

**Rešitev.**

(a)  $(f + g)(x) = g(x) + f(x) = -3x + 2 + 5x^2 + 3 = 5x^2 - 3x + 5$

(b)  $(f \circ g)(x) = f(g(x)) = f(5x^2 + 3) = -3(5x^2 + 3) + 2 = -15x^2 - 9$

(c)  $(g \circ f)(x) = g(f(x)) = g(-3x + 2) = 5(-3x + 2)^2 + 3 = 5(9x^2 - 12x + 4) + 3 = 45x^2 - 60x + 20$

4. Ali so funkcije sode ali lihe?

(a)  $f(x) = 6x^5 - 2x^3 + 7x$

(b)  $f(x) = \frac{2x}{11x^2 - 3x - 1}$

(c)  $f(x) = x^2 e^{3x^2}$

**Rešitev.**

(a) Funkcija  $f$  je liha, saj je  $f(-x) = -f(x)$ :

$$\begin{aligned} f(-x) &= 6(-x)^5 - 2(-x)^3 + 7(-x) \\ &= -6x^5 + 2x^3 - 7x \\ &= -(6x^5 - 2x^3 + 7x) \\ &= -f(x) \end{aligned}$$

(b) Vidimo, da je

$$\begin{aligned} f(-x) &= \frac{2(-x)}{11(-x)^2 - 3(-x) - 1} \\ &= \frac{-2x}{11x^2 + 3x - 1}. \end{aligned}$$

Funkcija  $f$  ni niti soda niti liha, saj  $f(-x) \neq f(x)$  in  $f(-x) \neq -f(x)$ .

(c) Ni težko preveriti, da je

$$f(-x) = (-x)^2 e^{3(-x)^2} = x^2 e^{3x^2} = f(x).$$

Iz tega sledi, da je funkcija soda, saj je  $f(-x) = f(x)$ .

5. Skicirajte graf funkcije:

- (a)  $f(x) = -2x^2 + 3$
- (b)  $f(x) = \frac{1}{x-2}$
- (c)  $f(x) = e^{-(x+1)} + 1$
- (d)  $f(x) = \ln(3x - 2)$
- (e)  $f(x) = -2 \sin(x - \frac{\pi}{3})$
- (f)  $f(x) = \cos(4x)$

**Rešitev.** Če poznamo graf funkcije, podane s predpisom  $f(x)$ , dobimo graf funkcije, podane s predpisom

- $-f(x)$ , z zrcaljenjem preko osi  $x$
- $f(-x)$ , z zrcaljenjem preko osi  $y$
- $kf(x)$ , ( $k > 0$ ), z raztegom za faktor  $k$  po osi  $y$
- $f(kx)$ , ( $k > 0$ ), z raztegom za faktor  $1/k$  po osi  $x$
- $f(x) + a$ , s premikom po osi  $y$  za  $a$ 
  - navzgor, če  $a > 0$
  - navzdol, če  $a < 0$
- $f(x + a)$ , s premikom po osi  $x$  za  $a$

- v levo, če  $a > 0$
- v desno, če  $a < 0$

Tako postopoma pridemo do grafa zelene funkcije.

- (a)
- Parabolo  $y = x^2$  raztegnemo za faktor 2 po osi  $y$  (dobimo graf  $y = 2x^2$ ).
  - Dobljeni graf zrcalimo preko osi  $x$  (dobimo graf  $y = -2x^2$ ).
  - Dobljeni graf premaknemo za 3 navzgor (dobimo graf zelene funkcije  $f(x) = -2x^2 + 3$ ).

Graf je na sliki (5.1).

- (b) Hiperbolo  $y = \frac{1}{x}$  premaknemo za 2 proti desni.  
Graf je na sliki (5.2).

- (c)
- Graf eksponentne funkcije  $y = e^x$  zrcalimo preko osi  $y$  ( $y = e^{-x}$ ),
  - premaknemo za 1 proti levi ( $y = e^{-(x+1)}$ )
  - in za 1 navzgor.

Graf je na sliki (5.3).

- (d) Dano funkcijo zapišimo kot  $f(x) = \ln 3(x - \frac{2}{3})$ .
- Po osi  $x$  jo skrčimo za faktor 3 ( $y = \ln(3x)$ )
  - in premaknemo za  $\frac{2}{3}$  v desno.

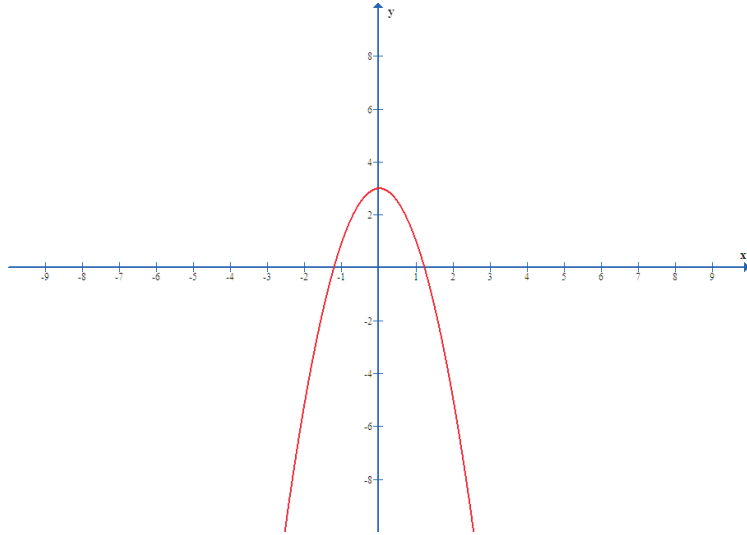
Graf je na sliki (5.4).

- (e)
- Graf funkcije  $y = \sin x$  zrcalimo čez os  $x$  in raztegnemo za faktor 2 po osi  $y$  ( $y = -2 \sin x$ ),
  - nato pa premaknemo za  $\frac{\pi}{3}$  v desno.

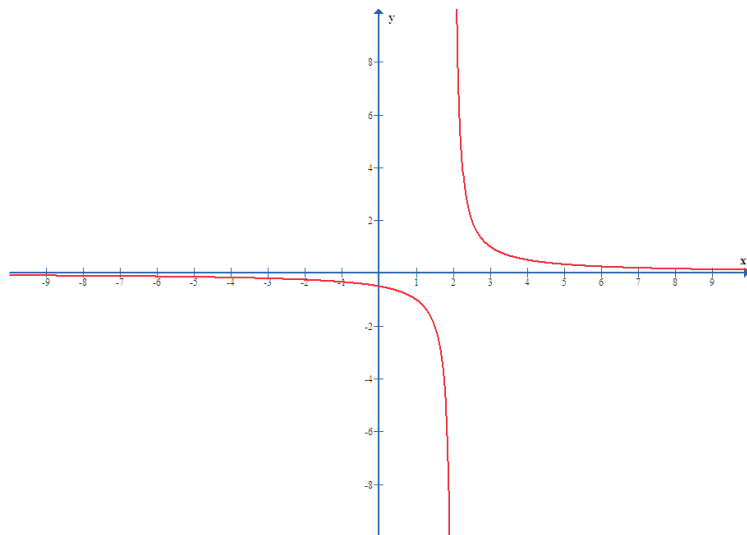
Graf je na sliki (5.5).

- (f) Graf funkcije  $y = \cos x$  skrčimo za faktor 4 po osi  $x$ .  
Graf je na sliki (5.6).

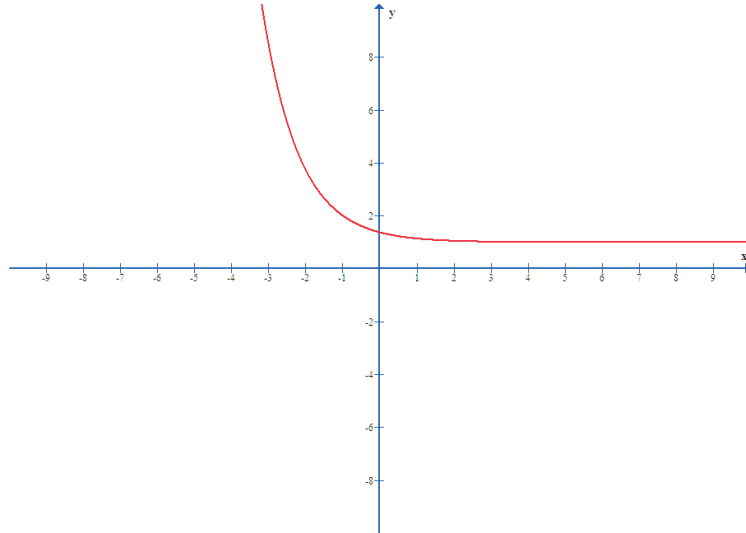




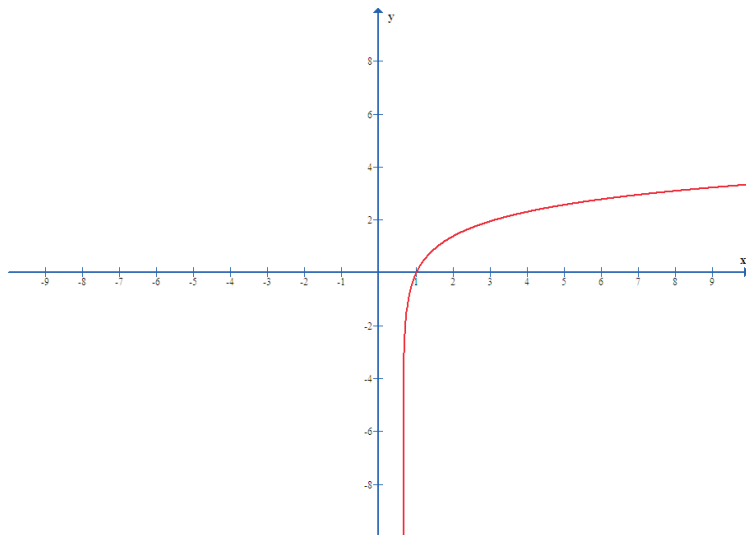
Slika 5.1:  $f(x) = -2x^2 + 3$



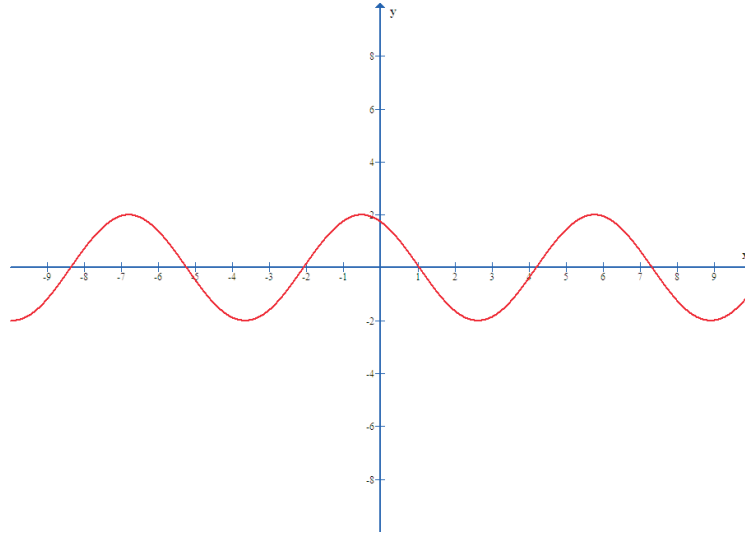
Slika 5.2:  $f(x) = \frac{1}{x-2}$



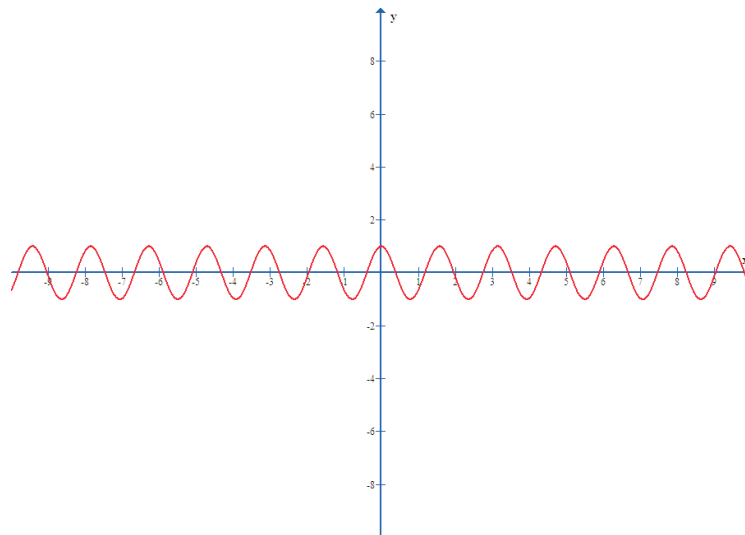
Slika 5.3:  $f(x) = e^{-(x+1)} + 1$



Slika 5.4:  $f(x) = \ln(3x - 2)$



Slika 5.5:  $f(x) = -2 \sin(x - \frac{\pi}{3})$



Slika 5.6:  $f(x) = \cos(4x)$

6. Zapišite predpis inverzne funkcije dani funkciji:

- (a)  $f(x) = x^3 + 7$
- (b)  $f(x) = \ln(5x)$
- (c)  $f(x) = 2e^{-x+2} + 2$

**Rešitev.**

- (a)
  - Funkcijo prepisemo v obliki  $y = x^3 + 7$ .
  - Zamenjamo spremenljivki  $x$  in  $y$ :  $x = y^3 + 7$ .
  - Rešitev enačbe da iskani predpis:  $y = \sqrt[3]{x - 7}$ .
- (b)  $y = \ln(5x)$ ,  $x = \ln(5y)$ ,  $y = \frac{1}{5}e^x$
- (c)  $y = 2e^{-x+2} + 2$ ,  $x = 2e^{-y+2} + 2$ ,  $y = -\ln\left(\frac{x}{2} - 1\right) + 2$

7. Izračunajte:

- (a)  $\lim_{x \rightarrow \infty} \frac{x^2 - 707x}{7x^2 + 707}$
- (b)  $\lim_{x \rightarrow -\infty} \frac{x^3 + 2^3}{3x^3 - 2x}$

**Rešitev.**

- (a)  $\lim_{x \rightarrow \infty} f(x)$  računamo po enakih pravilih kot limito zaporedja, torej  $\lim_{x \rightarrow \infty} \frac{x^2 - 707x}{7x^2 + 707} = \frac{1}{7}$ .
- (b)  $\lim_{x \rightarrow -\infty} f(x)$  računamo kot  $\lim_{x \rightarrow \infty} f(-x)$ . V danem primeru torej  $\lim_{x \rightarrow \infty} \frac{-x^3 + 2^3}{-3x^3 + 2x} = \frac{1}{3}$ .

8. Izračunajte:

- (a)  $\lim_{x \rightarrow 3} \frac{x^2 - 9}{x - 3}$
- (b)  $\lim_{x \rightarrow 2} \left( \frac{1}{x-2} - \frac{12}{x^3 - 8} \right)$
- (c)  $\lim_{x \rightarrow 0} \frac{\sqrt{1+x} - \sqrt{1-x}}{5x}$
- (d)  $\lim_{x \rightarrow 5} \frac{1 - \sqrt{x-4}}{x^2 - 25}$
- (e)  $\lim_{x \rightarrow 4} \frac{3 - \sqrt{5+x}}{1 - \sqrt{5-x}}$

*Rešitev.* Limite so:

(a)

$$\begin{aligned}\lim_{x \rightarrow 3} \frac{x^2 - 9}{x - 3} &= \lim_{x \rightarrow 3} \frac{(x - 3)(x + 3)}{x - 3} \\ &= \lim_{x \rightarrow 3} (x + 3) = 6\end{aligned}$$

(b)

$$\begin{aligned}\lim_{x \rightarrow 2} \left( \frac{1}{x - 2} - \frac{12}{x^3 - 8} \right) &= \lim_{x \rightarrow 2} \frac{x^2 + 2x - 8}{(x - 2)(x^2 + 2x + 4)} \\ &= \lim_{x \rightarrow 2} \frac{(x - 2)(x + 4)}{(x - 2)(x^2 + 2x + 4)} \\ &= \lim_{x \rightarrow 2} \frac{x + 4}{x^2 + 2x + 4} = \frac{1}{2}\end{aligned}$$

(c) Izraz  $\frac{\sqrt{1+x}-\sqrt{1-x}}{5x}$  razširimo s  $\sqrt{1+x} + \sqrt{1-x}$ :

$$\begin{aligned}\lim_{x \rightarrow 0} \frac{\sqrt{1+x} - \sqrt{1-x}}{5x} &= \lim_{x \rightarrow 0} \frac{\sqrt{1+x} - \sqrt{1-x}}{5x} \cdot \frac{\sqrt{1+x} + \sqrt{1-x}}{\sqrt{1+x} + \sqrt{1-x}} \\ &= \lim_{x \rightarrow 0} \frac{1+x - (1-x)}{5x(\sqrt{1+x} + \sqrt{1-x})} \\ &= \lim_{x \rightarrow 0} \frac{2x}{5x(\sqrt{1+x} + \sqrt{1-x})} \\ &= \lim_{x \rightarrow 0} \frac{2}{5(\sqrt{1+x} + \sqrt{1-x})} \\ &= \frac{1}{5}\end{aligned}$$

(d) Racionaliziramo števec in upoštevamo zvezo  $a^2 - b^2 = (a - b)(a + b)$

$$\begin{aligned}\lim_{x \rightarrow 5} \frac{1 - \sqrt{x - 4}}{x^2 - 25} &= \lim_{x \rightarrow 5} \frac{(1 - \sqrt{x - 4})(1 + \sqrt{x - 4})}{(x^2 - 25)(1 + \sqrt{x - 4})} \\ &= \lim_{x \rightarrow 5} \frac{1 - (x - 4)}{(x^2 - 25)(1 + \sqrt{x - 4})} \\ &= \lim_{x \rightarrow 5} \frac{5 - x}{(x - 5)(x + 5)(1 + \sqrt{x - 4})} \\ &= \lim_{x \rightarrow 5} \frac{-(x - 5)}{(x - 5)(x + 5)(1 + \sqrt{x - 4})} \\ &= \lim_{x \rightarrow 5} \frac{-1}{(x + 5)(1 + \sqrt{x - 4})} \\ &= -\frac{1}{10}\end{aligned}$$

(e) Racionaliziramo števec in imenovalc

$$\begin{aligned}\lim_{x \rightarrow 4} \frac{3 - \sqrt{5 + x}}{1 - \sqrt{5 - x}} &= \lim_{x \rightarrow 4} \frac{3 - \sqrt{5 + x}}{1 - \sqrt{5 - x}} \cdot \frac{3 + \sqrt{5 + x}}{3 + \sqrt{5 + x}} \cdot \frac{1 + \sqrt{5 - x}}{1 + \sqrt{5 - x}} \\ &= \lim_{x \rightarrow 4} \frac{9 - (5 + x)}{1 - (5 - x)} \cdot \frac{1 + \sqrt{5 - x}}{3 + \sqrt{5 + x}} \\ &= \lim_{x \rightarrow 4} \frac{4 - x}{-4 + x} \cdot \frac{1 + \sqrt{5 - x}}{3 + \sqrt{5 + x}} \\ &= \lim_{x \rightarrow 4} (-1) \cdot \frac{1 + \sqrt{5 - x}}{3 + \sqrt{5 + x}} \\ &= -\frac{1}{3}\end{aligned}$$

9. Izračunajte:

- (a)  $\lim_{x \rightarrow 0} \frac{\sin(6x)}{x}$
- (b)  $\lim_{x \rightarrow 0} \frac{2x}{\sin(7x)}$
- (c)  $\lim_{x \rightarrow 0} (1 + 3x)^{\frac{1}{x}}$
- (d)  $\lim_{x \rightarrow 0} \frac{\ln(1+5x)}{8x}$

**Rešitev.**

(a) Vidimo, da je

$$\lim_{x \rightarrow 0} \frac{\sin(6x)}{x} = \lim_{x \rightarrow 0} \frac{6 \sin(6x)}{6x}.$$

Naj bo  $6x = t$  in upoštevajmo, da je  $\lim_{x \rightarrow 0} \frac{\sin x}{x} = 1$ . Potem je

$$\lim_{x \rightarrow 0} \frac{6 \sin(6x)}{6x} = \lim_{t \rightarrow 0} \frac{6 \sin t}{t} = 6 \lim_{t \rightarrow 0} \frac{\sin t}{t} = 6.$$

(b) Vidimo, da je

$$\lim_{x \rightarrow 0} \frac{2x}{\sin(7x)} = 2 \lim_{x \rightarrow 0} \frac{x}{\sin(7x)} = 2 \lim_{x \rightarrow 0} \frac{7x}{7 \sin(7x)}.$$

Naj bo  $7x = t$ . Potem je

$$2 \lim_{x \rightarrow 0} \frac{7x}{7 \sin(7x)} = 2 \lim_{t \rightarrow 0} \frac{t}{7 \sin t} = \frac{2}{7} \lim_{t \rightarrow 0} \frac{t}{\sin t} = \frac{2}{7}.$$

(c) Vidimo, da je

$$\lim_{x \rightarrow 0} (1 + 3x)^{\frac{1}{x}} = \lim_{x \rightarrow 0} (1 + 3x)^{\frac{3}{3x}}.$$

Naj bo  $3x = t$  in upoštevajmo, da je  $\lim_{x \rightarrow 0} (1 + x)^{\frac{1}{x}} = e$ . Potem je

$$\lim_{x \rightarrow 0} (1 + 3x)^{\frac{3}{3x}} = \lim_{t \rightarrow 0} (1 + t)^{\frac{3}{t}} = \lim_{t \rightarrow 0} ((1 + t)^{\frac{1}{t}})^3 = e^3.$$

(d) Vidimo, da je

$$\lim_{x \rightarrow 0} \frac{\ln(1 + 5x)}{8x} = \frac{1}{8} \lim_{x \rightarrow 0} \frac{\ln(1 + 5x)}{x} = \frac{1}{8} \lim_{x \rightarrow 0} \frac{5 \ln(1 + 5x)}{5x}.$$

Naj bo  $5x = t$  in upoštevajmo, da je  $\lim_{x \rightarrow 0} \frac{\ln(1+x)}{x} = 1$ . Potem je

$$\frac{1}{8} \lim_{x \rightarrow 0} \frac{5 \ln(1 + 5x)}{5x} = \frac{1}{8} \lim_{t \rightarrow 0} \frac{5 \ln(1 + t)}{t} = \frac{5}{8} \lim_{t \rightarrow 0} \frac{\ln(1 + t)}{t} = \frac{5}{8}.$$

10. Funkcija  $f$  je podana s predpisom

$$f(x, y) = \begin{cases} -2x - 3; & x < 0 \\ 0; & x = 0 \\ x - 3; & x > 0 \end{cases}$$

Izračunajte  $f(0)$ ,  $\lim_{x \rightarrow 0^+} f(x)$ ,  $\lim_{x \rightarrow 0^-} f(x)$ ,  $\lim_{x \rightarrow 0} f(x)$ . Ali je funkcija  $f$  zvezna v točki  $x = 0$ ?

**Rešitev.** Očitno je  $f(0) = 0$ . Vidimo, da je

$$\begin{aligned}\lim_{x \rightarrow 0^+} f(x) &= \lim_{x \rightarrow 0^+} (x - 3) = -3 \\ \lim_{x \rightarrow 0^-} f(x) &= \lim_{x \rightarrow 0^-} (-2x - 3) = -3.\end{aligned}$$

Iz tega sledi, da je  $\lim_{x \rightarrow 0} f(x) = 3$ . Vendar funkcija  $f$  ni zvezna v točki  $x = 0$ , saj  $\lim_{x \rightarrow 0} f(x) \neq f(0)$ .

11. Funkcija  $f$  je podana s predpisom

$$f(x, y) = \begin{cases} -5x - 1; & x < 0 \\ x^3 + 2; & x \in [0, 1] \\ 3x; & x > 1 \end{cases}$$

Izračunajte

- (a)  $f(0)$ ,  $\lim_{x \rightarrow 0^+} f(x)$ ,  $\lim_{x \rightarrow 0^-} f(x)$ ,  $\lim_{x \rightarrow 0} f(x)$
- (b)  $f(1)$ ,  $\lim_{x \rightarrow 1^+} f(x)$ ,  $\lim_{x \rightarrow 1^-} f(x)$ ,  $\lim_{x \rightarrow 1} f(x)$

Ali je funkcija  $f$  zvezna v točkah  $x = 0$  in  $x = 1$ ?

**Rešitev.**

- (a)  $f(0) = 2$ ,  $\lim_{x \rightarrow 0^+} f(x) = \lim_{x \rightarrow 0^+} (x^3 + 2) = 2$ ,  $\lim_{x \rightarrow 0^-} f(x) = \lim_{x \rightarrow 0^-} (-5x - 1) = -1$ ,  $\lim_{x \rightarrow 0} f(x)$  ne obstaja.
- (b)  $f(1) = 3$ ,  $\lim_{x \rightarrow 1^+} f(x) = \lim_{x \rightarrow 1^+} 3x = 3$ ,  $\lim_{x \rightarrow 1^-} f(x) = \lim_{x \rightarrow 1^-} (x^3 + 2) = 3$ ,  $\lim_{x \rightarrow 1} f(x) = 3$ .

Funkcija  $f$  ni zvezna v točki  $x = 0$ , v točki  $x = 1$  pa je zvezna.

12. Določite  $a$  tako, da bo funkcija

$$f(x, y) = \begin{cases} 2x^2 + 1; & x \leq 1 \\ 4 - x^2a; & x > 1 \end{cases}$$

zvezna.

**Rešitev.** Funkcija  $f$  bo zvezna, ko bo  $\lim_{x \rightarrow 1^+} f(x) = \lim_{x \rightarrow 1^-} f(x)$ . Torej  $\lim_{x \rightarrow 1^+} (4 - x^2a) = \lim_{x \rightarrow 1^-} (2x^2 + 1)$ . Iz tega sledi  $4 - a = 3$ , kar pomeni, da je  $a = 1$ .



13. Določite  $a$  tako, da bo funkcija

$$f(x, y) = \begin{cases} x^3; & x \geq 1 \\ -3x^2 + a; & x < 1 \end{cases}$$

zvezna.

**Rešitev.** Ker mora biti  $\lim_{x \rightarrow 1^+} f(x) = \lim_{x \rightarrow 1^-} f(x)$ , je  $1 = -3 + a$ , iz česar sledi, da je  $a = 4$ .

14. Naj bo

$$f(x, y) = \begin{cases} \frac{|x-4|}{x-4}; & x \neq 4 \\ 0; & x = 4 \end{cases}$$

Ali obstaja  $\lim_{x \rightarrow 4} f(x)$ ?

**Rešitev.** Vidimo, da je

$$\lim_{x \rightarrow 4^+} f(x) = \lim_{x \rightarrow 4^+} \frac{|x-4|}{x-4} = \lim_{x \rightarrow 4^+} \frac{x-4}{x-4} = 1$$

in

$$\lim_{x \rightarrow 4^-} f(x) = \lim_{x \rightarrow 4^-} \frac{|x-4|}{x-4} = \lim_{x \rightarrow 4^-} \frac{-(x-4)}{x-4} = -1.$$

S tem smo pokazali, da leva in desna limita funkcije  $f$  v točki  $x = 4$  nista enaki. Iz tega sledi, da ne obstaja  $\lim_{x \rightarrow 4} f(x)$ .

15. Naj bo

$$f(x, y) = \begin{cases} e^{\frac{1}{x}}; & x \neq 0 \\ 0; & x = 0 \end{cases}$$

Ali je funkcija zvezna v točki  $x = 0$ ?

**Rešitev.** Ker je  $\lim_{x \rightarrow 0^-} \frac{1}{x} = -\infty$ , je

$$\lim_{x \rightarrow 0^-} f(x) = \lim_{x \rightarrow 0^-} e^{\frac{1}{x}} = 0.$$

Ker je  $\lim_{x \rightarrow 0^+} \frac{1}{x} = \infty$ , je

$$\lim_{x \rightarrow 0^+} f(x) = \lim_{x \rightarrow 0^+} e^{\frac{1}{x}} = \infty.$$

S tem smo pokazali, da leva in desna limita funkcije  $f$  v točki  $x = 0$  nista enaki, iz česar sledi, da funkcija  $f$  ni zvezna v točki  $x = 0$ .

16. Določite  $f(a)$  tako, da bodo dane funkcije zvezne v točki  $a$ .

(a)  $f(x) = \frac{\sin(3x)}{4x}$ ,  $a = 0$

(b)  $f(x) = (1 + 5x)^{\frac{1}{2x}}$ ,  $a = 0$

(c)  $f(x) = \frac{1 - \sqrt{x-3}}{x^2 - 16}$ ,  $a = 4$

**Rešitev.** Funkcija  $f$  bo zvezna v točki  $a$ , ko bo  $\lim_{x \rightarrow a} f(x) = f(a)$ .

(a)  $f(0) = \frac{3}{4}$

(b)  $f(0) = e^{\frac{5}{2}}$

(c)  $f(4) = -\frac{1}{16}$

## *Viri*

1. Cedilnik, A.: Matematični priročnik. Didakta, Radovljica, 1997
2. Fošner, Gorše, Povh, Pustavrh, Zalar: Matematične metode v uporabi. DMFA (v pripravi)
3. Jamnik, R.: Matematika. DMFA, Lj, 1994
4. Mencinger, M: Zbirka rešenih nalog iz matematične analize in algebre. UM, FG, Mb, 2006
5. Mizori-Oblak, P.: Matematika za študente tehnike in naravoslovja, 1.del. UL, FS, Lj, 2001
6. Usenik, J.: Matematične metode v prometu. UL, FPP, Portorož, 1998